

# MATEMÁTICAS I:

## 1º de Bachillerato

### Capítulo 4: Trigonometría

#### Propiedad Intelectual

El presente documento se encuentra depositado en el registro de Propiedad Intelectual de Digital Media Rights con ID de obra AAA-0181-02-AAA-065414

Fecha y hora de registro: 2015-05-03 18:05:49.0

Licencia de distribución: CC by-nc-sa



Queda prohibido el uso del presente documento y sus contenidos para fines que excedan los límites establecidos por la licencia de distribución.

Más información en <http://www.dmrighs.com>



[www.apuntesmareaverde.org.es](http://www.apuntesmareaverde.org.es)



**Autores:** José Luis Lorente Aragón y Andrés García Mirantes

**Revisor:** Luis Carlos Vidal

**Ilustraciones:** Elaboración propia, Wikipedia, Banco de Imágenes de INTEF

## 1. RAZONES TRIGONOMÉTRICAS

- 1.1. UNIDADES DE MEDIDA DE ÁNGULOS
- 1.2. RAZONES TRIGONOMÉTRICAS DE ÁNGULOS AGUDOS
- 1.3. RAZONES TRIGONOMÉTRICAS DE ÁNGULOS ARBITRARIOS

## 2. CÁLCULO DE RAZONES DE UNOS ÁNGULOS A PARTIR DE OTROS

- 2.1. RAZONES TRIGONOMÉTRICAS DE LA SUMA DE ÁNGULOS
- 2.2. RAZONES TRIGONOMÉTRICAS DE LA RESTA DE ÁNGULOS
- 2.3. RAZONES TRIGONOMÉTRICAS DEL ÁNGULO DOBLE
- 2.4. RAZONES TRIGONOMÉTRICAS DEL ÁNGULO MITAD
- 2.5. TRANSFORMACIONES DE SUMA DE RAZONES TRIGONOMÉTRICAS EN PRODUCTOS

## 3. IDENTIDADES Y ECUACIONES TRIGONOMÉTRICAS

- 3.1. ECUACIONES
- 3.2. SISTEMAS

## 4. RESOLUCIÓN GENERAL DE TRIÁNGULOS

- 4.1. TEOREMA DEL COSENO
- 4.2. TEOREMA DEL SENOS
- 4.3. RESOLUCIÓN DE TRIÁNGULOS
- 4.4. PROBLEMAS DE TRIGONOMETRÍA CON MEDIDAS SIMPLES Y DOBLES

En el curso anterior ya te habrás familiarizado con los conceptos más importantes de la trigonometría y hasta es posible que conozcas su historia.

Como seguramente sabes, la palabra trigonometría significa "medición de triángulos". Más concretamente, viene del griego "τριγωνομετρία" ("trigonometria"), donde "τρίγωνο" significa triángulo y "μετρεῖν" significa medir.

Es una de las disciplinas de las Matemáticas más antiguas. Hay tablillas babilónicas del siglo XX (¡antes de Cristo!) y papiros egipcios del XVII a.C. que tratan temas de trigonometría.

No sólo son antiguos sus orígenes, también su desarrollo. Prácticamente todo lo que vamos a ver en este capítulo (que es esencialmente todo lo que se sabe) acerca de resolución de triángulos ya lo conocían los griegos en el siglo II antes de Cristo.

El enfoque suyo, sin embargo, era fundamentalmente geométrico y muchos teoremas que nosotros vemos en forma algebraica se escribían de manera muy diferente. ¡Pero ya eran conocidos!

¿Por qué este desarrollo tan rápido? La explicación no es muy sorprendente. La trigonometría se utiliza muchísimo en Astronomía, medida de terrenos (agrimensura) y navegación, tres campos muy necesarios en las civilizaciones antiguas. Y no pienses que la Astronomía se hacía por curiosidad, era vital saber los movimientos de los astros para las crecidas del Nilo y para guiar barcos por las estrellas. Por eso existen instrumentos realmente antiguos de medidas de ángulos, como la ilustración que puedes ver del Museo Arqueológico de Madrid.

En este capítulo no sólo veremos resolución de triángulo. También se estudiarán las identidades y ecuaciones donde aparecen razones trigonométricas. El estudio de estas fórmulas se lo debemos fundamentalmente a la civilización hindú (siglo X fundamentalmente). De hecho, seno y coseno vienen del sánscrito. Seno viene de *ḥyā* (cuerda de arco) y *koṭi-ḥyā* (*ḥyā* del complementario).



Instrumento para medir ángulos

## 1. RAZONES TRIGONOMÉTRICAS

### 1.1. Medida de ángulos

En el sistema sexagesimal de medida de ángulos, la unidad es el **grado sexagesimal** que se define como la trescientos sesentaava parte de un ángulo completo. Tiene dos divisores: el **minuto** que es la sesentaava parte de un grado y el **segundo** que es la sesentaava parte de un minuto.

Probablemente hayas visto ya en el curso anterior que la unidad de medida de ángulos en el Sistema Internacional es el **radián**.

El **radián** es un ángulo tal que cualquier arco que se le asocie mide exactamente lo mismo que el radio utilizado para trazarlo. Se denota por **rad**.

Puesto que a un ángulo completo le corresponde un arco de longitud  $2\pi R$ , a un radián un arco de longitud  $R$ , entonces:

$$\text{Nº de radianes de un ángulo completo} = \frac{2\pi R}{R} = 2\pi \text{ rad}$$

Y la relación con el sistema sexagesimal la obtenemos a partir del ángulo completo:

$$\text{ángulo completo} = 360^\circ = 2\pi \text{ rad} \Leftrightarrow \text{ángulo llano} = 180^\circ = \pi \text{ radianes}$$

Por esta relación se obtiene que  $1 \text{ rad} \cong 57.216^\circ \cong 57^\circ 12' 58''$ .

Podríamos por tanto haber definido el radián de otra manera totalmente equivalente, a partir de los grados.

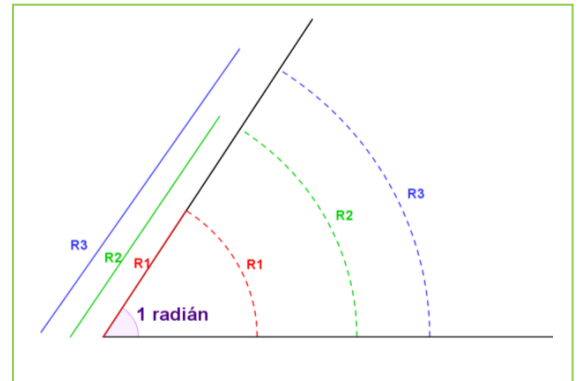
$$\text{Un radián mide } \frac{180}{\pi} \text{ grados sexagesimales.}$$

¿Por qué esta medida? ¿No resulta un poco extraño usar un número irracional como  $\pi$  para medir? Hay dos razones para ello.

1. Con radianes es muy fácil transformar longitudes en ángulos y viceversa. Con grados es un poco más complicado (tampoco mucho).
2. Cuando veamos en este mismo curso las derivadas, las funciones trigonométricas se expresan en radianes. Esto es así porque las derivadas salen más sencillas. Pero bueno, lo veremos más adelante.

### Actividades propuestas

1. Expresa en radianes las siguientes medidas:  $60^\circ$ ,  $120^\circ$ ,  $225^\circ$ ,  $330^\circ$ .
2. Expresa en grados sexagesimales:  $\frac{\pi}{4}$ ,  $\frac{2\pi}{3}$ ,  $\frac{3\pi}{2}$  y  $\frac{10\pi}{6}$  radianes.
3. ¿Cuánto suman (en radianes) los ángulos de un triángulo? ¿Cuánto mide un ángulo recto en radianes?
4. Para ver la utilidad de los radianes, supongamos un móvil que se mueve en una circunferencia de dos metros de radio con una velocidad de 4 m/s. Calcula su velocidad en rad/s y en grados por segundo. ¿cuántas vueltas da por minuto?



- Un móvil ha recorrido 3 rad en una circunferencia de radio 2 m. ¿Cuánto espacio ha recorrido? ¿Y si la circunferencia tuviera radio de 0.5 m?
- Hemos recorrido 40 grados de una circunferencia de radio 2 m. ¿cuánto espacio hemos recorrido? ¿y si tuviera radio 0.5 m? ¿Es más fácil o más difícil que hacerlo con radianes?



**Razones trigonométricas.** En este video se explica paso a paso como calcular las 6 razones trigonométricas en un triángulo rectángulo. Como diferenciar el cateto adyacente del el opuesto. Método sencillo para recordar estas seis fórmulas. Al final una tarea para practicar lo aprendido.



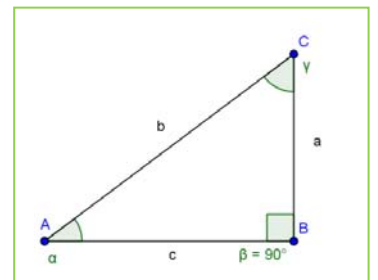
<https://www.youtube.com/watch?v=C99jZV5p734>

Ya has visto el año pasado cómo se definían las razones trigonométricas en un triángulo. Nos limitaremos por tanto a recordar cómo se hacían y a introducir la notación que vamos a seguir en este capítulo.

Los vértices de un triángulo los representaremos con letras mayúsculas, empezando el alfabeto ( $A$ ,  $B$ ,  $C$ , ...). El lado opuesto a cada vértice lo representaremos con la letra minúscula correspondiente a dicho vértice ( $a$ ,  $b$ ,  $c$ ...). A su vez el ángulo correspondiente a cada vértice lo representaremos con la letra griega que toque, empezando el alfabeto griego ( $\alpha$ ,  $\beta$ ,  $\gamma$ ...).

En otras palabras:

- En el vértice  $A$  está el ángulo  $\alpha$  y opuesto a él, el lado  $a$ .
- En el vértice  $B$  está el ángulo  $\alpha$  y opuesto a él, el lado  $b$ .
- En el vértice  $C$  está el ángulo  $\alpha$  y opuesto a él, el lado  $c$ .



En la medida de lo posible usaremos siempre esa convención, para todos los triángulos, sean rectángulos o no. También marcaremos los ángulos rectos como en la figura, con forma cuadrada.

Como ya sabes, se definen las razones trigonométricas del ángulo  $\alpha$  como:

$$\operatorname{sen}(\alpha) = \frac{\text{cateto opuesto}}{\text{hipotenusa}} = \frac{a}{b}$$

$$\operatorname{cos}(\alpha) = \frac{\text{cateto contiguo}}{\text{hipotenusa}} = \frac{c}{b}$$

$$\operatorname{tg}(\alpha) = \frac{\text{cateto opuesto}}{\text{cateto contiguo}} = \frac{a}{c} = \frac{\left(\frac{a}{b}\right)}{\left(\frac{c}{b}\right)} = \frac{\operatorname{sen}(\alpha)}{\operatorname{cos}(\alpha)}$$

En inglés se escribe  $\sin(\alpha)$  para el seno y  $\tan(\alpha)$  para la tangente. Posiblemente lo tengas así en tu calculadora.

Como ya has visto el año pasado, esta definición no depende del triángulo elegido.

Estas razones no son independientes unas de otras. De hecho, si sabemos que un ángulo es agudo, basta una CUALQUIERA de las razones trigonométricas para calcular todas las demás.

1. **PRIMERA RELACIÓN FUNDAMENTAL:**  $[\text{sen}(\alpha)]^2 + [\text{cos}(\alpha)]^2 = 1$

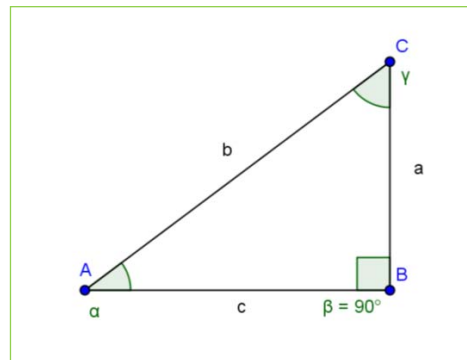
2. **SEGUNDA RELACIÓN FUNDAMENTAL:**  $\text{tg}(\alpha) = \frac{\text{sen}(\alpha)}{\text{cos}(\alpha)}$

### Una cuestión de notación

Es muy habitual, aunque no del todo correcto, escribir los cuadrados de las funciones trigonométricas antes del argumento. Es decir  $\text{sen}^2(\alpha)$  quiere decir  $[\text{sen}(\alpha)]^2$  y NO  $\text{sen}[\text{sen}(\alpha)]$ .

Esta notación está tan generalizada que creemos conveniente que te habitúes a ella y por eso es la que seguiremos a partir de ahora. Pero fíjate por favor en lo que significa.

También se utiliza para otras potencias. Así, por ejemplo  $\text{sen}^8(\alpha) = [\text{sen}(\alpha)]^8$  y  $\text{cos}^2 \alpha + \text{sen}^2 \alpha = 1$ .



### Actividad propuesta

- En la figura se verifica el teorema de *Pitágoras*  $a^2 + c^2 = b^2$ . Utilizando dicho teorema, demuestra la primera relación fundamental.
- Utilizando las definiciones de las razones trigonométricas, demuestra la segunda relación fundamental.

### Otras razones trigonométricas

Además de las razones trigonométricas que hemos visto, existen otras tres que son un poco menos habituales. Son las siguientes:

$$\sec(\alpha) = \frac{1}{\text{cos}(\alpha)}$$

$$\text{cosec}(\alpha) = \frac{1}{\text{sen}(\alpha)}$$

$$\text{cotg}(\alpha) = \frac{1}{\text{tg}(\alpha)}$$

### Actividad propuesta

- Utilizando la definición de las identidades, demuestra:

a)  $1 + \text{tg}^2(\alpha) = \sec^2(\alpha)$       b)  $1 + \text{cotg}^2(\alpha) = \text{cosec}^2(\alpha)$



**Seno, coseno y tangente de 30° 45° 60° | Sin calculadora. Explicación de la forma de encontrar los valores de las funciones trigonométricas o razones trigonométricas: seno, coseno y tangente de ángulos especiales o notables como los de 30°, 45° y 60°. Profe Alex**



<https://www.youtube.com/watch?v=rQSugLrh7E>

### Razones trigonométricas de 30° y 60°

Consideramos un triángulo equilátero de lado  $L$ . Trazamos la altura correspondiente al lado sobre el que se apoya. Con ello queda dividido en dos triángulos rectángulos iguales cuyos ángulos miden 90°, 30° y 60°. Además, la hipotenusa mide  $L$  y uno de sus catetos  $L/2$ . Por el teorema de *Pitágoras* podemos obtener el que nos falta:

$$h = \sqrt{L^2 - \left(\frac{L}{2}\right)^2} = \sqrt{L^2 - \frac{L^2}{4}} = \sqrt{\frac{3L^2}{4}} = \frac{\sqrt{3}L}{2}$$

Calculamos las razones trigonométricas de 30° y 60° en el triángulo

$\triangle ABH$ :

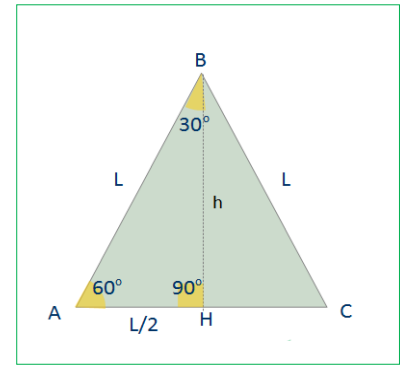
$$\text{sen } 60^\circ = \frac{h}{L} = \frac{\sqrt{3}L}{2L} : L = \frac{\sqrt{3}L}{2L} = \frac{\sqrt{3}}{2}$$

$$\text{sen } 30^\circ = \frac{L/2}{L} : L = \frac{L/2}{2L} = \frac{1}{2}$$

$$\text{cos } 60^\circ = \frac{L/2}{L} : L = \frac{L}{2L} = \frac{1}{2}$$

$$\text{cos } 30^\circ = \frac{h}{L} = \frac{\sqrt{3}L}{2L} : L = \frac{\sqrt{3}L}{2L} = \frac{\sqrt{3}}{2}$$

$$\text{tg } 60^\circ = h : \frac{L}{2} = \frac{2h}{L} = \frac{2\sqrt{3}L}{2L} : L = \frac{2\sqrt{3}L}{2L} = \sqrt{3}, \text{tg } 30^\circ = \frac{L/2}{h} = \frac{L/2}{\sqrt{3}L/2} = \frac{2L}{2\sqrt{3}L} = \frac{1}{\sqrt{3}} = \frac{\sqrt{3}}{3}$$



### Razones trigonométricas de 45°

Ahora vamos a trabajar con un triángulo rectángulo isósceles. Pongamos que los dos catetos tienen una longitud  $L$ . Utilizamos de nuevo el teorema de *Pitágoras* y obtenemos el valor de la hipotenusa  $x$  en función de  $L$ :

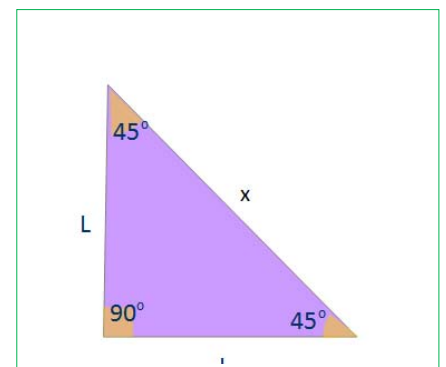
$$x = \sqrt{L^2 + L^2} = \sqrt{2L^2} = L\sqrt{2}$$

Ahora podemos calcular ya las razones trigonométricas de 45°

$$\text{sen } 45^\circ = \frac{L}{x} = \frac{L}{L\sqrt{2}} := \frac{1}{\sqrt{2}} = \frac{\sqrt{2}}{2}$$

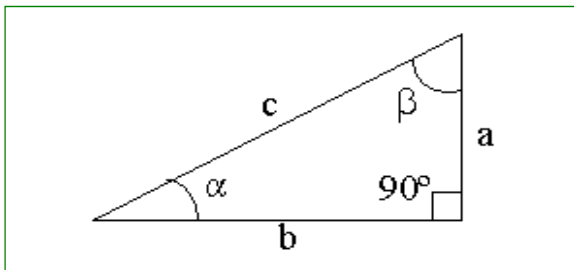
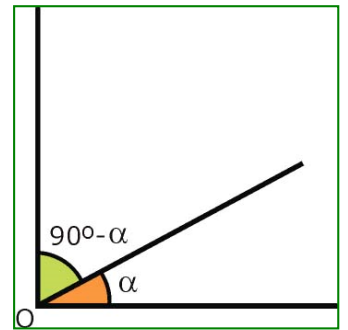
$$\text{cos } 45^\circ = \frac{L}{x} = \frac{L}{L\sqrt{2}} := \frac{1}{\sqrt{2}} = \frac{\sqrt{2}}{2}$$

$$\text{tg } 45^\circ = \frac{L}{L} = 1$$



## Ángulos complementarios

Antes de nada, recordemos que son los ángulos complementarios. Dos ángulos son complementarios si la suma de ambos resulta  $90^\circ$ ,  $\frac{\pi}{2}$  rad. Por ejemplo  $30^\circ$  y  $60^\circ$  son ángulos complementarios,  $20^\circ$  y  $70^\circ$  o  $45^\circ$  y  $45^\circ$  también entre otros. De forma genérica si llamamos  $\alpha$  a cualquier ángulo agudo su complementario es  $90^\circ - \alpha = \frac{\pi}{2} - \alpha$ .



En todo triángulo rectángulo los ángulos no rectos son complementarios:

$$90^\circ + \alpha + \beta = 180^\circ \rightarrow \alpha + \beta = 90^\circ \rightarrow \beta = 90^\circ - \alpha$$

En esta sección queremos ver la relación entre las razones trigonométricas de ángulos complementarios. De momento nos limitaremos a ángulos agudos, luego se verá el caso para ángulos arbitrarios.

Nos fijamos el dibujo del triángulo rectángulo y calculemos las razones trigonométricas.

$$\operatorname{sen}(\alpha) = \frac{\text{cateto opuesto}}{\text{hipotenusa}} = \frac{a}{c}$$

$$\operatorname{sen}(\beta) = \frac{\text{cateto opuesto}}{\text{hipotenusa}} = \frac{b}{c}$$

$$\text{Para } \alpha : \operatorname{cos}(\alpha) = \frac{\text{cateto contiguo}}{\text{hipotenusa}} = \frac{b}{c} \quad \text{Para } \beta : \operatorname{cos}(\beta) = \frac{\text{cateto contiguo}}{\text{hipotenusa}} = \frac{a}{c}$$

$$\operatorname{tg}(\alpha) = \frac{\text{cateto opuesto}}{\text{cateto contiguo}} = \frac{a}{b}$$

$$\operatorname{tg}(\beta) = \frac{\text{cateto opuesto}}{\text{cateto contiguo}} = \frac{b}{a}$$

Igualando razones iguales:

$$\operatorname{sen}(\alpha) = \operatorname{cos}(90^\circ - \alpha) = \frac{a}{c}$$

$$\operatorname{cos}(\alpha) = \operatorname{sen}(90^\circ - \alpha) = \frac{b}{c}$$

$$\operatorname{tg}(\alpha) = \frac{1}{\operatorname{tg}(90^\circ - \alpha)} = \frac{a}{b}$$

## Actividades propuestas

10. Comprueba las anteriores relaciones a partir de los ángulos de  $30^\circ$  y  $60^\circ$ .

11. Explica por qué el seno y el coseno de  $45^\circ$  son iguales, y por qué la tangente vale la unidad.

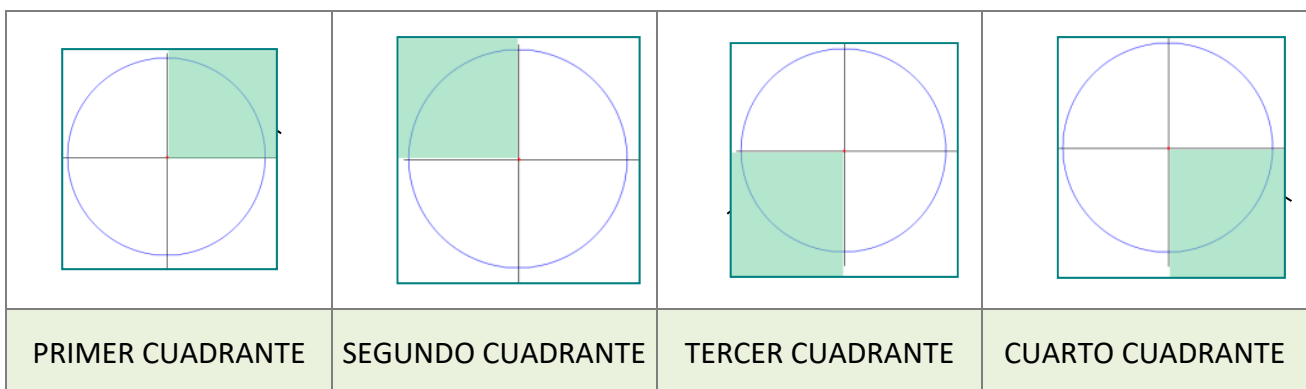
### 1.3. Razones trigonométricas de ángulos arbitrarios

Se llama **circunferencia trigonométrica** o *goniométrica* a una circunferencia de radio unidad centrada en el origen de coordenadas.

Es posible representar cualquier ángulo en la circunferencia trigonométrica. Para ello siempre se toma un lado fijo que es la semirrecta definida por la parte positiva del eje de abscisas; el segundo lado es la semirrecta variable que corresponda según su medida. El sentido de un ángulo se mide de  $OX$  a la semirrecta variable que determina su amplitud. Se entiende que para un ángulo negativo coincide con el de las agujas de un reloj analógico y para un ángulo positivo, el contrario.

El punto  $P = (x_\alpha, y_\alpha)$ , el punto  $(x_\alpha, 0)$  y el origen de coordenadas delimitan un triángulo. Este triángulo es SIEMPRE rectángulo y su hipotenusa es SIEMPRE uno (puesto que es el radio de la circunferencia).

La circunferencia trigonométrica divide al plano en cuatro regiones que se denominan cuadrantes.



Como puedes ver en la figura, si el ángulo está en el primer cuadrante, tenemos un ángulo agudo. Podemos pues calcular sus razones trigonométricas:

$$\operatorname{sen}(\alpha) = \frac{y_\alpha}{1} = y_\alpha, \quad \operatorname{cos}(\alpha) = \frac{x_\alpha}{1} = x_\alpha \quad \text{y} \quad \operatorname{tg}(\alpha) = \frac{y_\alpha}{x_\alpha} = \frac{\operatorname{sen}(\alpha)}{\operatorname{cos}(\alpha)}$$

Ahora bien, esta definición tiene también sentido cuando el ángulo está en cualquiera de los otros cuadrantes.

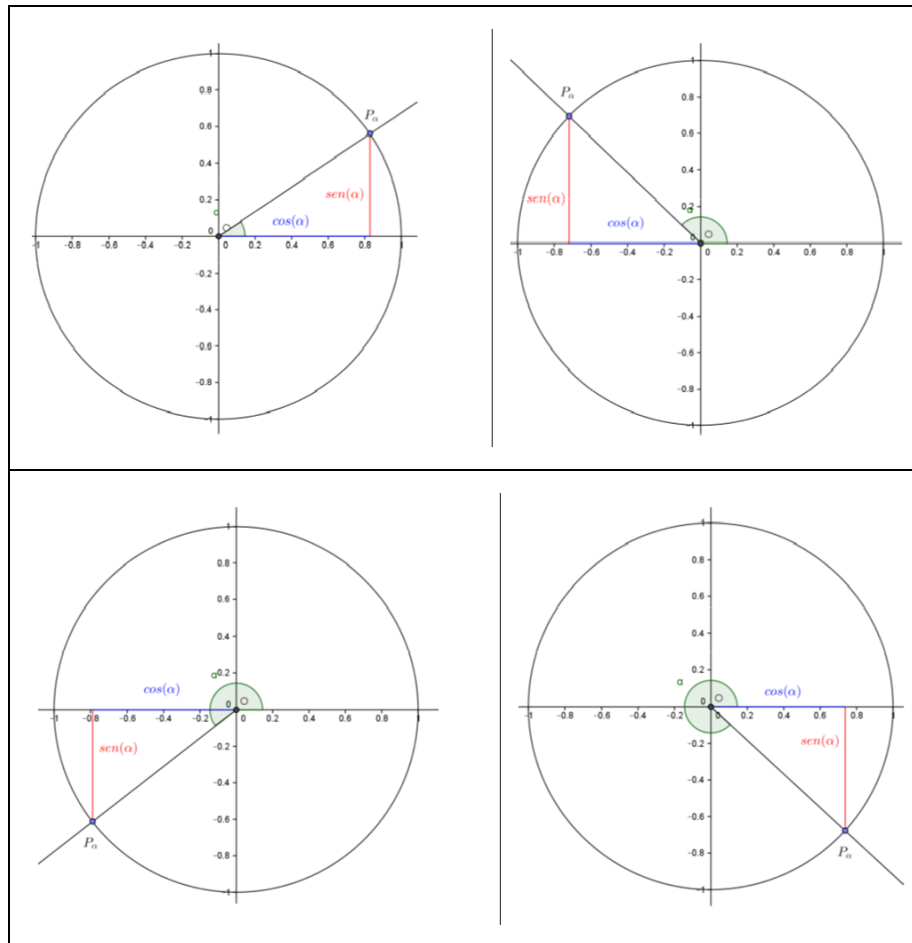
Haciendo la misma construcción, se calcula el punto  $P_\alpha = (x_\alpha, y_\alpha)$  y se definen el seno, coseno y tangente a partir de sus componentes, de la misma manera.

$$\operatorname{sen}(\alpha) = \frac{y_\alpha}{1} = y_\alpha, \quad \operatorname{cos}(\alpha) = \frac{x_\alpha}{1} = x_\alpha \quad \text{y} \quad \operatorname{tg}(\alpha) = \frac{y_\alpha}{x_\alpha} = \frac{\operatorname{sen}(\alpha)}{\operatorname{cos}(\alpha)}$$

La única diferencia es que las componentes de  $P_\alpha$  pueden ser nulas o negativas y por tanto las razones trigonométricas pueden ser nulas y negativas. Asimismo, observa que si el coseno es 0 la tangente no está definida. En la figura puedes ver un ejemplo en el segundo cuadrante

De este modo, se conserva la definición para ángulos agudos que son ángulos del primer cuadrante y se amplía a ángulos de cualquier signo y amplitud. En las figuras siguientes aparecen el seno y coseno de

cualquier cuadrante.



Recuerda finalmente que las funciones trigonométricas son periódicas con periodo 360 grados o  $2\pi$  radianes. De este modo  $\text{sen}(\alpha + 2\pi n) = \text{sen}(\alpha)$  para cualquier  $n$  entero.

También se definen con esa fórmula, ángulos negativos. Un ángulo negativo quiere decir que se recorre en sentido de las agujas del reloj. Para pasarlo a positivo se le suma 360 grados tantas veces como sea necesario.

Así  $\cos(-30^\circ) = \cos(-30^\circ + 360^\circ) = \cos(330^\circ)$  y  $\text{sen}(-400^\circ) = \text{sen}(-400^\circ + 2 \cdot 360^\circ) = \text{sen}(320^\circ)$

Si bien es muy probable que ya lo hayas visto el curso pasado, vamos a repasar las fórmulas de reducción de ángulos al primer cuadrante.

Los ángulos  $\alpha$  de los cuadrantes segundo, tercero o cuarto pueden relacionarse con ángulos agudos  $\beta$  que podemos situar en el primer cuadrante y que tienen razones trigonométricas con los mismos valores absolutos que los ángulos  $\alpha$  iniciales.

En los casos en los que deseemos obtener qué ángulos corresponden a una razón trigonométrica dada, resulta especialmente importante ya que, aunque hagamos uso de la calculadora, ésta nos devolverá un único valor y, sin embargo, existen infinitos ángulos solución de este problema. Gracias a lo que describiremos en este apartado, podremos encontrarlos sin dificultad.

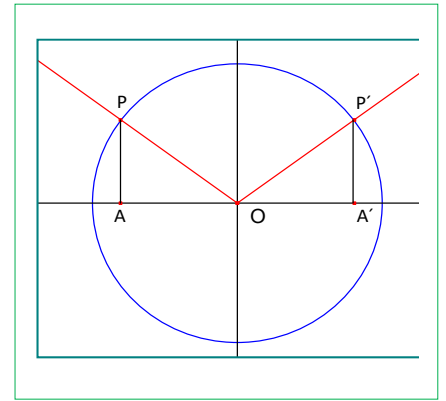
*Para hacer más cómoda la explicación consideraremos que a partir de  $P$  se miden las razones trigonométricas del ángulo  $\alpha$  y a partir de  $P'$  las del ángulo  $\beta$*

## Ángulos del segundo cuadrante

Construimos los triángulos rectángulos  $OPA$  y  $OP'A'$  iguales de forma que la hipotenusa sea en ambos casos el radio de la circunferencia *goniométrica* y además  $\beta = \text{ángulo } AOP = \text{ángulo } A'OP'$ .

$$\overline{sen \alpha} = \overline{AP} = \overline{A'P'} = \overline{sen \beta}$$

$$\overline{\cos \alpha} = \overline{AO} = -\overline{A'O} = -\overline{\cos \beta}$$



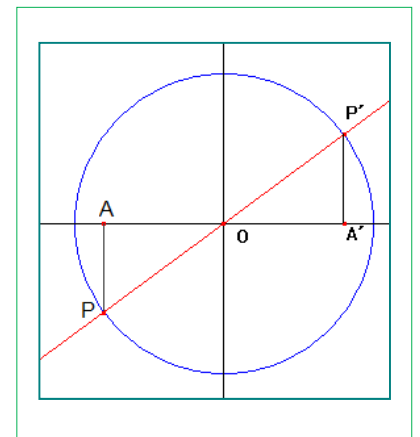
Y dividiendo miembro a miembro, obtenemos  $tg \alpha = \frac{\overline{sen \alpha}}{\overline{\cos \alpha}} = \frac{\overline{sen \beta}}{-\overline{\cos \beta}} = -tg \beta$

## Ángulos del tercer cuadrante

También en este caso los triángulos rectángulos  $OPA$  y  $OP'A'$  son iguales. Su hipotenusa es el radio de la circunferencia *goniométrica* y sus catetos los segmentos determinados por las coordenadas de los puntos  $P$  y  $P'$ . La construcción se realiza además de modo que  $\beta = \text{ángulo } AOP = \text{ángulo } A'OP'$ .

$$\overline{sen \alpha} = \overline{AP} = -\overline{A'P'} = -\overline{sen \beta}$$

$$\overline{\cos \alpha} = \overline{AO} = -\overline{A'O} = -\overline{\cos \beta}$$



Y dividiendo miembro a miembro, obtenemos  $tg \alpha = \frac{\overline{sen \alpha}}{\overline{\cos \alpha}} = \frac{-\overline{sen \beta}}{-\overline{\cos \beta}} = tg \beta$

## Ángulos del cuarto cuadrante

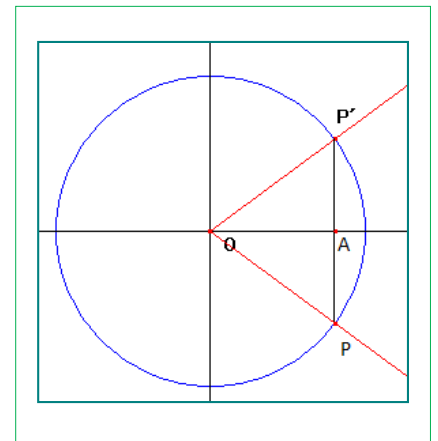
Por último, construimos los triángulos rectángulos  $OPA$  y  $OP'A$  iguales de modo análogo a lo descrito en los dos casos anteriores, observando que, en este caso  $A = A'$ .

$$\overline{sen \alpha} = \overline{AP} = -\overline{AP'} = -\overline{sen \beta}$$

$$\overline{\cos \alpha} = \overline{AO} = \overline{\cos \beta}$$

Y dividiendo miembro a miembro, obtenemos:

$$tg \alpha = \frac{\overline{sen \alpha}}{\overline{\cos \alpha}} = \frac{-\overline{sen \beta}}{\overline{\cos \beta}} = -tg \beta$$



Razones TRIGONOMÉTRICAS de Cualquier Ángulo con Circunferencia GONIOMÉTRICA Susi Profe

<https://www.youtube.com/watch?v=bTCc8fQI-s0>



### Actividades propuestas

12. Copia en tu cuaderno, y sitúa en el cuadrante que corresponda y expresa en función de un ángulo agudo las razones trigonométricas de los siguientes ángulos:

Ángulo	Seno	Coseno	Tangente	Secante	Cosecante	Cotangente
135°						
120°						
210°						
315°						
390°						
3 000°						
-150°						

13. Utiliza la calculadora para encontrar todos los ángulos positivos menores que 360° cuyo seno es de 0.6.

14. Ídem todos los ángulos negativos menores en valor absoluto que 360° cuya tangente vale 4.

15. Ídem todos los ángulos comprendidos entre 360° y 720° cuyo coseno vale 0.75.

### Ángulos determinados por los semiejes

Hay cuatro puntos  $P_\alpha$  donde la circunferencia corta a los ejes coordenados.

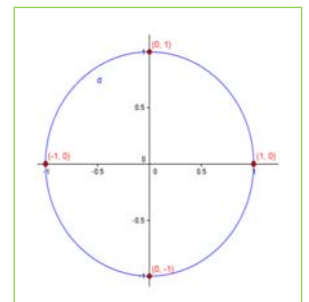
Es fácil ver que son los puntos:

$$(1, 0) [\alpha = 0^\circ]$$

$$(0, 1) [\alpha = 90^\circ]$$

$$(-1, 0) [\alpha = 180^\circ]$$

$$(0, -1) [\alpha = 270^\circ]$$



Por tanto, los ángulos  $0^\circ + 360^\circ n$ ,  $90^\circ + 360^\circ n$ ,  $180^\circ + 360^\circ n$  y  $270^\circ + 360^\circ n$  están determinados por semiejes de coordenadas y sus razones trigonométricas se miden a partir de puntos de los ejes.

De ahí se obtiene con facilidad:

$$\text{sen } (0^\circ + 360^\circ n) = 0; \quad \cos (0^\circ + 360^\circ n) = 1; \quad \text{tg}(0^\circ + 360^\circ n) = 0.$$

$$\text{sen } (90^\circ + 360^\circ n) = 1; \quad \cos (90^\circ + 360^\circ n) = 0; \quad \text{tg}(90^\circ + 360^\circ n) \text{ no existe.}$$

$$\text{sen } (180^\circ + 360^\circ n) = 0; \quad \cos (180^\circ + 360^\circ n) = -1; \quad \text{tg}(180^\circ + 360^\circ n) = 0.$$

$$\text{sen } (270^\circ + 360^\circ n) = -1; \quad \cos (270^\circ + 360^\circ n) = 0; \quad \text{tg}(270^\circ + 360^\circ n) \text{ no existe.}$$

## 2. CÁLCULO DE RAZONES DE UNOS ÁNGULOS A PARTIR DE OTROS

### 2.1. Razones trigonométricas de la suma de ángulos

Muchas veces es de utilidad poder calcular las razones trigonométricas de una suma de ángulos a partir de conocer las razones trigonométricas de los ángulos independientes.

El objetivo del presente apartado es expresar las razones  $\text{sen}(a+b)$ ,  $\text{cos}(a+b)$  y  $\text{tg}(a+b)$  en función de  $\text{sen}(a)$ ,  $\text{sen}(b)$ ,  $\text{cos}(a)$ ,  $\text{cos}(b)$ ,  $\text{tg}(a)$  y  $\text{tg}(b)$ .

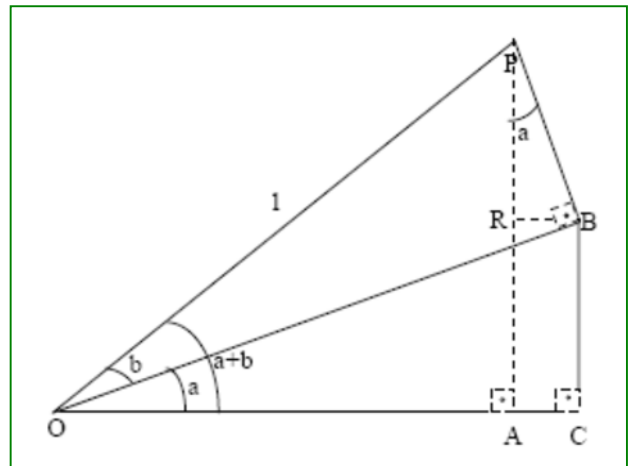
Para el cálculo utilizaremos la siguiente figura formada por dos triángulos rectángulos  $OCB$  y  $OBP$  superpuestos. La hipotenusa  $OB$  de un triángulo es un cateto del otro. En la figura a la hipotenusa  $OP$  le daremos el valor de 1 unidad. En la construcción se obtiene un tercer triángulo rectángulo  $OAP$  en donde el ángulo del vértice  $O$  es la suma de los ángulos  $(a + b)$  de los otros dos triángulos  $(a$  y  $b)$ .

Por propiedades de perpendicularidad podemos ver otro triángulo rectángulo semejante  $PRB$  (iguales ángulos y lados proporcionales) al triángulo  $OCB$ . Para entender la semejanza sólo tienes que ver que los lados de los triángulos son perpendiculares.

Nuestro objetivo es poner las razones trigonométricas del ángulo  $a + b$ , del triángulo  $OPA$  en función de  $a$  y  $b$ . Vamos a calcular el seno y el coseno de este ángulo:

$$\text{sen}(a+b) = AP = AR + RP = CB + RP$$

$$\text{cos}(a+b) = OA = OC - AC = OC - RB$$



Pongamos los segmentos  $CB$ ,  $RP$ ,  $OC$  y  $RB$  en función de los ángulos de  $a$  y  $b$ :

$$\text{sen}(a) = \frac{CB}{OB} \rightarrow CB = OB \cdot \text{sen}(a)$$

$$\text{sen}(a) = \frac{RB}{PB} \rightarrow RB = PB \cdot \text{sen}(a)$$

$$\text{cos}(a) = \frac{RP}{PB} \rightarrow RP = PB \cdot \text{cos}(a)$$

$$\text{cos}(a) = \frac{OC}{OB} \rightarrow OC = OB \cdot \text{cos}(a)$$

$$\text{sen}(b) = \frac{PB}{1} \rightarrow PB = \text{sen}(b)$$

$$\text{cos}(b) = \frac{OB}{1} \rightarrow OB = \text{cos}(b)$$

Con estas igualdades fácilmente relacionaremos el seno y coseno de la suma de dos ángulos con las razones simples... ¡¡hemos llegado a nuestro objetivo!!

$$\text{sen}(a + b) = \text{sen}(a) \cdot \text{cos}(b) + \text{cos}(a) \cdot \text{sen}(b)$$

$$\text{cos}(a + b) = \text{cos}(a) \cdot \text{cos}(b) - \text{sen}(a) \cdot \text{sen}(b)$$



### RAZONES TRIGONOMÉTRICAS DE LA SUMA DE ÁNGULOS. Demostración. Matemáticas con Juan

<https://www.youtube.com/watch?v=ckFBjpmZ5Rs>



**Una nota adicional:** Aunque lo hayamos demostrado sólo para ángulos agudos, estas fórmulas son válidas para ángulos cualesquiera. Sólo hay que ir reduciéndolos al primer cuadrante. Es pesado, pero no reviste especial dificultad.

Para calcular la tangente utilizaremos la relación que tiene con el seno y el coseno visto en el apartado anterior:

$$\begin{aligned}
 \operatorname{tg}(a+b) &= \frac{\operatorname{sen}(a+b)}{\operatorname{cos}(a+b)} = \frac{\operatorname{sen}(a)\cdot\operatorname{cos}(b) + \operatorname{cos}(a)\cdot\operatorname{sen}(b)}{\operatorname{cos}(a)\cdot\operatorname{cos}(b) - \operatorname{sen}(a)\cdot\operatorname{sen}(b)} \stackrel{\substack{\text{dividiendo} \\ \text{num y den por} \\ \operatorname{cos}(a)\cdot\operatorname{cos}(b)}}{=} \frac{\frac{\operatorname{sen}(a)\cdot\operatorname{cos}(b) + \operatorname{cos}(a)\cdot\operatorname{sen}(b)}{\operatorname{cos}(a)\cdot\operatorname{cos}(b)}}{\frac{\operatorname{cos}(a)\cdot\operatorname{cos}(b) - \operatorname{sen}(a)\cdot\operatorname{sen}(b)}{\operatorname{cos}(a)\cdot\operatorname{cos}(b)}}} = \\
 &= \frac{\operatorname{tg}(a) + \operatorname{tg}(b)}{1 - \operatorname{tg}(a)\operatorname{tg}(b)}
 \end{aligned}$$

#### Resumen:

#### RAZONES TRIGONOMÉTRICAS DE LA SUMA

$$\begin{cases}
 \operatorname{sen}(a+b) = \operatorname{sen}(a)\cdot\operatorname{cos}(b) + \operatorname{cos}(a)\cdot\operatorname{sen}(b) \\
 \operatorname{cos}(a+b) = \operatorname{cos}(a)\cdot\operatorname{cos}(b) - \operatorname{sen}(a)\cdot\operatorname{sen}(b) \\
 \operatorname{tg}(a+b) = \frac{\operatorname{tg}(a) + \operatorname{tg}(b)}{1 - \operatorname{tg}(a)\operatorname{tg}(b)}
 \end{cases}$$

### Actividades propuestas

- Calcula a partir de las razones trigonométricas de  $30^\circ$ ,  $45^\circ$ ,  $60^\circ$  y  $90^\circ$  las razones trigonométricas de  $75^\circ$ ,  $120^\circ$ ,  $150^\circ$ ,  $105^\circ$  y  $135^\circ$
- Comprueba que las razones trigonométricas de  $90^\circ$  se pueden obtener a partir de las razones trigonométricas de  $30^\circ$  y de  $60^\circ$ .

## 2.2. Razones trigonométricas de la resta de ángulos

En este apartado nos planteamos obtener las razones trigonométricas de la resta de dos ángulos ( $a - b$ ) en función de  $a$  y  $b$ . La demostración en este caso es mucho más sencilla que en el apartado anterior, pues simplemente vamos a usar el resultado de la suma, sumando un ángulo negativo ( $-b$ ). Para la demostración utilizaremos la relación entre un ángulo del cuarto cuadrante ( $-b = 360^\circ - b$ ) en función del ángulo  $b$  en el primero. Recordemos esta relación vista en un apartado anterior:

- $\operatorname{sen}(-b) = \operatorname{sen}(360^\circ - b) = -\operatorname{sen}(b)$
- $\operatorname{cos}(-b) = \operatorname{cos}(360^\circ - b) = \operatorname{cos}(b)$
- $\operatorname{tg}(-b) = \operatorname{tg}(360^\circ - b) = -\operatorname{tg}(b)$

Aplicamos estos resultados a las razones trigonométricas de la suma visto anteriormente:

$$\operatorname{sen}(a-b) = \operatorname{sen}(a + (-b)) = \operatorname{sen}(a) \cdot \cos(-b) + \cos(a) \cdot \operatorname{sen}(-b) = \operatorname{sen}(a) \cdot \cos(b) - \cos(a) \cdot \operatorname{sen}(b)$$

$$\operatorname{cos}(a-b) = \operatorname{cos}(a + (-b)) = \operatorname{cos}(a) \cdot \cos(-b) + \operatorname{sen}(a) \cdot \operatorname{sen}(-b) = \operatorname{cos}(a) \cdot \cos(b) + \operatorname{sen}(a) \cdot \operatorname{sen}(b)$$

$$\operatorname{tg}(a-b) = \operatorname{tg}(a + (-b)) = \frac{\operatorname{tg}(a) + \operatorname{tg}(-b)}{1 - \operatorname{tg}(a) \operatorname{tg}(-b)} = \frac{\operatorname{tg}(a) - \operatorname{tg}(b)}{1 + \operatorname{tg}(a) \operatorname{tg}(b)}$$

**Resumiendo:**

**RAZONES TRIGOMÉTRICAS DE LA RESTA**

$$\left\{ \begin{array}{l} \operatorname{sen}(a-b) = \operatorname{sen}(a) \cdot \cos(b) - \cos(a) \cdot \operatorname{sen}(b) \\ \operatorname{cos}(a-b) = \operatorname{cos}(a) \cdot \cos(b) + \operatorname{sen}(a) \cdot \operatorname{sen}(b) \\ \operatorname{tg}(a-b) = \frac{\operatorname{tg}(a) - \operatorname{tg}(b)}{1 + \operatorname{tg}(a) \operatorname{tg}(b)} \end{array} \right.$$

### Actividades propuestas

18. Calcula a partir de las razones trigonométricas de  $30^\circ$ ,  $45^\circ$ ,  $60^\circ$  y  $90^\circ$  las razones trigonométricas de  $15^\circ$
19. Comprueba que las razones trigonométricas de  $30^\circ$  se pueden obtener a partir de las razones trigonométricas de  $90^\circ$  y de  $60^\circ$ .
20. Demuestra las fórmulas de ángulos complementarios usando las fórmulas de la resta. Es decir, verifica que  $\operatorname{sen}(90^\circ - \alpha) = \operatorname{cos}(\alpha)$  y las demás usando estas fórmulas. Observa que esta demostración que acabas es más general que la que hicimos antes, porque ahora  $\alpha$  no tiene por qué ser agudo.

### 2.3. Razones trigonométricas del ángulo doble



**Ángulo doble: problemas de trigonometría**

<https://www.youtube.com/watch?v=B4gMU6PWHSI>



En este apartado buscamos expresar las razones trigonométricas del ángulo doble,  $2a$ , en función del ángulo  $a$ .

Para calcularlo utilizamos las razones trigonométricas de la suma:

$$\operatorname{sen}(2a) = \operatorname{sen}(a+a) = \operatorname{sen}(a) \cdot \cos(a) + \cos(a) \cdot \operatorname{sen}(a) = 2 \cdot \operatorname{sen}(a) \cdot \cos(a)$$

$$\operatorname{cos}(2a) = \operatorname{cos}(a) \cdot \cos(a) - \operatorname{sen}(a) \cdot \operatorname{sen}(a) = \operatorname{cos}^2(a) - \operatorname{sen}^2(a)$$

$$\operatorname{tg}(2a) = \frac{\operatorname{tg}(a) + \operatorname{tg}(a)}{1 - \operatorname{tg}(a) \operatorname{tg}(a)} = \frac{2 \operatorname{tg}(a)}{1 - \operatorname{tg}^2(a)}$$

**RAZONES TRIGOMÉTRICAS DEL ÁNGULO DOBLE**

$$\left\{ \begin{array}{l} \operatorname{sen}(2a) = 2 \cdot \operatorname{sen}(a) \cdot \cos(a) \\ \operatorname{cos}(2a) = \operatorname{cos}^2(a) - \operatorname{sen}^2(a) \\ \operatorname{tg}(2a) = \frac{2 \operatorname{tg}(a)}{1 - \operatorname{tg}^2(a)} \end{array} \right.$$

## 2.4. Razones trigonométricas del ángulo mitad

Como has visto en los dos anteriores apartados podemos calcular las razones de la resta y del ángulo doble a partir de las razones trigonométricas de la suma. Para nuestro propósito de calcular las razones trigonométricas de los ángulos mitad utilizaremos las fórmulas del ángulo doble y de la relación fundamental de la trigonometría. Vamos a ello:

$$\cos(2x) = \cos^2(x) - \operatorname{sen}^2(x) = 1 - \operatorname{sen}^2(x) - \operatorname{sen}^2(x) = 1 - 2\operatorname{sen}^2(x) \rightarrow \operatorname{sen}(x) = \pm \sqrt{\frac{1 - \cos(2x)}{2}}$$

$$\cos(2x) = \cos^2(x) - \operatorname{sen}^2(x) = \cos^2(x) - (1 - \cos^2(x)) = 2\cos^2(x) - 1 \rightarrow \cos(x) = \pm \sqrt{\frac{1 + \cos(2x)}{2}}$$

Llamando  $2x = a$ , y por tanto  $x = a/2$  tendremos los resultados que resumimos en el siguiente cuadro

### RAZONES TRIGOMÉTRICAS DEL ÁNGULO MITAD

$$\begin{cases} \operatorname{sen}\left(\frac{a}{2}\right) = \pm \sqrt{\frac{1 - \cos(a)}{2}} \\ \cos\left(\frac{a}{2}\right) = \pm \sqrt{\frac{1 + \cos(a)}{2}} \\ \operatorname{tg}\left(\frac{a}{2}\right) = \pm \sqrt{\frac{1 - \cos(a)}{1 + \cos(a)}} \end{cases}$$

### Actividad resuelta

✚ Calcular  $\operatorname{sen}(3a)$  en función únicamente de  $\operatorname{sen}(a)$

**Solución:**

Para la resolución utilizaremos el seno de la suma, expresando  $3a = 2a + a$ . Luego utilizaremos el seno y el coseno del ángulo doble para los  $\operatorname{sen}(2a)$  y  $\cos(2a)$ . Por últimos para expresar todo en función del seno usaremos la relación fundamental que nos relaciona el coseno de un ángulo con su seno. Vamos a ello:

**Paso 1.** Seno de la suma:  $\operatorname{sen}(a + b) = \operatorname{sen}(a) \cdot \cos(b) + \cos(a) \cdot \operatorname{sen}(b)$ .

$$\operatorname{sen}(3a) = \operatorname{sen}(2a + a) = \operatorname{sen}(2a) \cdot \cos(a) + \cos(2a) \cdot \operatorname{sen}(a)$$

**Paso 2.** Seno y coseno del ángulo doble:  $\operatorname{sen}(2a) = 2\operatorname{sen}(a) \cdot \cos(a)$  y  $\cos(2a) = \cos^2(a) - \operatorname{sen}^2(a)$ .

$$\operatorname{sen}(3a) = 2 \cdot \operatorname{sen}(a) \cdot \cos(a) \cdot \cos(a) + (\cos^2(a) - \operatorname{sen}^2(a)) \operatorname{sen}(a) =$$

$$= 2 \cdot \operatorname{sen}(a) \cdot \cos^2(a) + \cos^2(a) \cdot \operatorname{sen}(a) - \operatorname{sen}^3(a) = 3 \cdot \cos^2(a) \cdot \operatorname{sen}(a) - \operatorname{sen}^3(a)$$

**Paso 3.** Relación fundamental trigonometría:  $\operatorname{sen}^2(a) + \cos^2(a) = 1$ .

$$\operatorname{sen}(3a) = 3 \cdot (1 - \operatorname{sen}^2(a)) \cdot \operatorname{sen}(a) - \operatorname{sen}^3(a) = 3 \cdot \operatorname{sen}(a) - 4 \cdot \operatorname{sen}^3(a)$$

### Actividades propuestas

21. Calcula las razones trigonométricas de  $22.5^\circ$  y  $11.25^\circ$  a partir de las razones trigonométricas de  $45^\circ$ .
22. Comprueba que las razones trigonométricas de  $45^\circ$  se pueden obtener a partir de las razones trigonométricas de  $90^\circ$ .
23. Calcula  $\cos(3a)$  en función únicamente de  $\cos(a)$ .
24. Calcula  $\operatorname{sen}(4a)$  en función únicamente de  $\operatorname{sen}(a)$  y  $\cos(4a)$  en función de  $\cos(a)$ .

## 2.5. Transformaciones de sumas de razones trigonométricas en productos

En este apartado vamos a ver como transformar la suma o diferencia de dos razones trigonométricas en un producto de razones trigonométricas. La utilidad de esto es más grande del que a simple vista parece, de hecho lo utilizaremos bastante en el apartado siguiente de resolución de ecuaciones trigonométricas.

Vamos a demostrar, como en los anteriores apartados, las identidades que nos relacionan la suma de dos razones trigonométricas en el producto de otras dos razones. Para este objetivo partimos de las ya conocidas razones trigonométricas del seno y coseno de la suma y diferencia:

$$(1) \quad \text{sen}(a + b) = \text{sen}(a) \cdot \cos(b) + \cos(a) \cdot \text{sen}(b)$$

$$(2) \quad \text{sen}(a - b) = \text{sen}(a) \cdot \cos(b) - \cos(a) \cdot \text{sen}(b)$$

$$(1) + (2) \rightarrow \text{sen}(a + b) + \text{sen}(a - b) = 2 \cdot \text{sen}(a) \cdot \cos(b)$$

$$(1) - (2) \rightarrow \text{sen}(a + b) - \text{sen}(a - b) = 2 \cdot \cos(a) \cdot \text{sen}(b)$$

Como el objetivo es que sean los argumentos de las razones trigonométricas sumadas conocidos se realiza el siguiente cambio de variable:

$$\left\{ \begin{array}{l} a + b = A \\ a - b = B \end{array} \rightarrow \begin{array}{l} a = \frac{A+B}{2} \\ b = \frac{A-B}{2} \end{array} \right\}$$

$$\text{sen}(A) + \text{sen}(B) = 2 \cdot \text{sen}\left(\frac{A+B}{2}\right) \cdot \cos\left(\frac{A-B}{2}\right)$$

De esta forma:

$$\text{sen}(A) - \text{sen}(B) = 2 \cdot \cos\left(\frac{A+B}{2}\right) \cdot \text{sen}\left(\frac{A-B}{2}\right)$$

Vamos a obtener la suma y diferencia de cosenos:

$$(1) \quad \cos(a + b) = \cos(a) \cdot \cos(b) - \text{sen}(a) \cdot \text{sen}(b)$$

$$(2) \quad \cos(a - b) = \cos(a) \cdot \cos(b) + \text{sen}(a) \cdot \text{sen}(b)$$

$$(1) + (2) \rightarrow \cos(a + b) + \cos(a - b) = 2 \cdot \cos(a) \cdot \cos(b)$$

$$(1) - (2) \rightarrow \cos(a + b) - \cos(a - b) = -2 \cdot \text{sen}(a) \cdot \text{sen}(b)$$

Haciendo el cambio de variable:

$$\cos(A) + \cos(B) = 2 \cdot \cos\left(\frac{A+B}{2}\right) \cdot \cos\left(\frac{A-B}{2}\right)$$

$$\cos(A) - \cos(B) = -2 \cdot \text{sen}\left(\frac{A+B}{2}\right) \cdot \text{sen}\left(\frac{A-B}{2}\right)$$

**Recapitemos los resultados:**

$$\begin{aligned} \operatorname{sen}(A) + \operatorname{sen}(B) &= 2 \cdot \operatorname{sen}\left(\frac{A+B}{2}\right) \cdot \cos\left(\frac{A-B}{2}\right) & \cos(A) + \cos(B) &= 2 \cdot \cos\left(\frac{A+B}{2}\right) \cdot \cos\left(\frac{A-B}{2}\right) \\ \operatorname{sen}(A) - \operatorname{sen}(B) &= 2 \cdot \cos\left(\frac{A+B}{2}\right) \cdot \operatorname{sen}\left(\frac{A-B}{2}\right) & \cos(A) - \cos(B) &= -2 \cdot \operatorname{sen}\left(\frac{A+B}{2}\right) \cdot \operatorname{sen}\left(\frac{A-B}{2}\right) \end{aligned}$$

**Actividad resuelta**

✚ Simplifica la expresión  $\frac{\operatorname{sen}(9a) + \operatorname{sen}(a)}{\cos(9a) - \cos(a)}$  hasta obtener una única razón trigonométrica

**Solución:**

Primero transformamos las sumas en productos:  $\frac{\operatorname{sen}(9a) + \operatorname{sen}(a)}{\cos(9a) - \cos(a)} = \frac{2 \cdot \operatorname{sen}(5a) \cdot \cos(4a)}{-2 \cdot \operatorname{sen}(5a) \cdot \operatorname{sen}(4a)}$

Podemos simplificar y agrupar en la cotangente:  $\frac{\operatorname{sen}(9a) + \operatorname{sen}(a)}{\cos(9a) - \cos(a)} = \frac{2 \cdot \operatorname{sen}(5a) \cdot \cos(4a)}{-2 \cdot \operatorname{sen}(5a) \cdot \operatorname{sen}(4a)} = -\cot g(4a)$

**Actividades propuestas**

25. Calcula sin hacer uso de la calculadora

a.  $\operatorname{sen}(75^\circ) - \operatorname{sen}(15^\circ)$       b.  $\cos(15^\circ) - \operatorname{sen}(15^\circ)$

26. Vuelve a calcularlo ahora, utilizando la calculadora. ¿Has obtenido lo mismo? ¿Qué has usado, grados o radianes?

27. Utiliza las transformaciones de sumas en productos para poner en función del seno y coseno del ángulo a:

a.  $\operatorname{sen}(45^\circ + a) + \operatorname{sen}(45^\circ - a)$       b.  $\cos(120^\circ + a) + \cos(60^\circ + a)$       c.  $\cos(270^\circ - a) - \cos(90^\circ - a)$

28. Simplifica las siguientes expresiones hasta obtener una única razón trigonométrica:

a.  $\frac{\operatorname{sen}(5a) + \operatorname{sen}(3a)}{\cos(5a) + \cos(3a)}$       b.  $\frac{\cos(x-y) - \cos(x+y)}{\operatorname{sen}(x+y) + \operatorname{sen}(x-y)}$



### 3. ECUACIONES Y SISTEMAS TRIGONOMÉTRICOS

#### 3.1. Ecuaciones

Es importante distinguir una **identidad** (trigonométrica o no) y una **ecuación**. Aunque es algo que trabajas desde la ESO es conveniente recordarlo, para no confundir conceptos. Una identidad es una igualdad que es cierta para cualquier valor de las letras (variables), por ejemplo  $\text{sen}^2(x) + \text{cos}^2(x) = 1$ . Por el contrario una ecuación sólo se cumple para algún valor de las letras (ahora se suele llamar incógnitas), por ejemplo " $\text{sen}(x) = 0$ " será cierto para  $x = 0^\circ$  y  $x = 180^\circ$  pero no para  $x = 90^\circ$ .

En este punto que ahora abordamos lo que tratamos es de resolver las ecuaciones, es decir encontrar los valores de las incógnitas donde se cumpla la igualdad.

Podemos poner algunas pautas para resolver las ecuaciones, pero no hay ninguna "receta mágica" que permita resolverlas de forma mecánica como las ecuaciones de segundo grado. Sólo repetir y hacer bastantes ecuaciones te va a facilitar resolver otras. Permítenos que te demos esas **pautas** que antes describíamos:

- I. Para resolver una ecuación los **argumentos** de las razones trigonométricas (lo que está dentro de los paréntesis del  $\text{sen}$ ,  $\text{cos}$ ,  $\text{tg}$  ...) han de ser **iguales**. De esta forma si tenemos en algunos  $x$  en otros  $2x$ , por ejemplo, podemos transformarlos en  $x$  con el ángulo doble
- II. Si tenemos **sumas o resta de dos razones trigonométricas** (seno o coseno) igualadas a cero, podemos transformarlas en producto y así luego separar la ecuación en dos igualdades elementales.
- III. Si tenemos varias razones trigonométricas con mismo argumento mediante las igualdades trigonométricas,  $\text{sen}^2(x) + \text{cos}^2(x) = 1$ ,  $1 + \text{tg}^2(x) = \frac{1}{\text{cos}^2(x)}$  o  $\text{tg}(x) = \frac{\text{sen}(x)}{\text{cos}(x)}$  podremos poner todas las razones en **función de una única razón trigonométrica** y mediante un cambio de variable resolver la ecuación.

Vamos a ver alguna ecuación y su resolución:

#### Actividad resuelta

- ✚ Ecuación básica con una única razón trigonométrica:  $\text{sen}(2x) = 1/2$ .
  - Primero despejamos la  $x$  buscando, en la circunferencia trigonométrica o con la calculadora, el  $1/2$ . En este caso sabemos que el ángulo mide o  $30^\circ$  ( $\pi/6$  radianes) o  $150^\circ$  ( $5\pi/6$  radianes).
  - Usando la calculadora (**recuerda**, debes usar las teclas *shift* y luego *sin*) y obtendrás sólo una de las dos soluciones que tiene<sup>1</sup>,  $2x = 30^\circ$ , (según tengas la calculadora, en grados,  $2x = 30^\circ$ , o en radianes,  $2x = 0.52$  rad).
  - A partir circunferencia trigonométrica podemos obtener la otra solución entre  $[0^\circ, 360^\circ)$  que tiene la igualdad.

<sup>1</sup> Cuando es  $\text{sen}(x) = 1$ ,  $\text{sen}(x) = -1$ ,  $\text{cos}(x) = 1$ ,  $\text{cos}(x) = -1$  sólo tienen una solución entre  $[0^\circ, 360^\circ)$

Tenemos que en nuestro ejemplo las soluciones entre  $[0^\circ, 360^\circ)$  son  $30^\circ$  y  $150^\circ$

Para completar las soluciones se debe incluir las soluciones en cualquier rango, no sólo en el intervalo  $[0^\circ, 360^\circ)$ , por lo que debido a la periodicidad de las funciones trigonométricas podemos sumarle las vueltas que se deséen a las soluciones anteriores.

Luego la solución para el problema es  $2x = \begin{cases} 30^\circ + 360^\circ k \\ 150^\circ + 360^\circ k \end{cases}$  con  $k \in \mathbb{Z}$  (número de vueltas) y por tanto

despejando  $x$  tenemos:

$$x = \begin{cases} 15^\circ + 180^\circ k \\ 75^\circ + 180^\circ k \end{cases} \rightarrow x = \begin{cases} 15^\circ + 360^\circ k \\ 195^\circ + 360^\circ k \\ 75^\circ + 360^\circ k \\ 255^\circ + 360^\circ k \end{cases}$$

## Actividades propuestas

29. Calcula las soluciones de las siguientes ecuaciones trigonométricas

a)  $\cos(3x) = 0$       b)  $\operatorname{tg}(2x) = -1$       c)  $\operatorname{sen}(4x) = -1$

30. Expresa en radianes las soluciones de la actividad resuelta ( $\operatorname{sen}(2x) = 1/2$ ) y de la actividad propuesta anterior.

## Actividad resuelta

✚ Ecuación trigonométrica con suma de dos razones trigonométricas (seno o coseno) transformable en productos.

Un caso particular es la ecuación:  $\operatorname{sen}(4x) - \operatorname{sen}(2x) = 0$  que procedemos ahora a resolver.

Transformamos la suma en producto aplicando identidades del apartado anterior:

$$\operatorname{sen}(4x) - \operatorname{sen}(2x) = 0 \rightarrow 2\cos(3x) \cdot \operatorname{sen}(x) = 0.$$

Cuando un producto es igual a cero cada uno de los multiplicandos puede ser cero, y la ecuación se transforma en tantas ecuaciones simples como factores tengamos, en nuestro ejemplo dos:

$$(1) \cos(3x) = 0 \quad \text{y} \quad (2) \operatorname{sen}(x) = 0.$$

Resolvamos estas dos ecuaciones:

$$(1) \cos(3x) = 0 \rightarrow 3x = \begin{cases} 90^\circ + 360^\circ k \\ 270^\circ + 360^\circ k \end{cases} \rightarrow x = \begin{cases} 30^\circ + 120^\circ k \\ 90^\circ + 120^\circ k \end{cases} = \begin{cases} 30^\circ + 360^\circ k \\ 150^\circ + 360^\circ k \\ 270^\circ + 360^\circ k \\ 90^\circ + 360^\circ k \\ 210^\circ + 360^\circ k \\ 330^\circ + 360^\circ k \end{cases}$$

$$(2) \operatorname{sen}(x) = 0 \Rightarrow x = \begin{cases} 0^\circ + 360^\circ k \\ 180^\circ + 360^\circ k \end{cases}$$

## Actividades propuestas

31. Calcula las soluciones de las siguientes ecuaciones trigonométricas:

a)  $\cos(5x) - \cos(x) = 0$

b)  $\operatorname{sen}(2x) - \operatorname{sen}(4x) = 0$

## Actividad resuelta

- ✚ Ecuación trigonométrica donde no podemos transformar las sumas en productos por ser más de dos o *combinar seno y coseno*.

Tendremos que transformar todas las razones trigonométricas en una misma. Los pasos a seguir son los que siguen:

- (1) Si tienen distinto argumento, mediante transformaciones de ángulo doble, poner todas las razones con mismo argumento.
- (2) Si tenemos el mismo argumento, pero distintas razones trigonométricas, poner todas en función de la misma utilizando las identidades  $\operatorname{sen}^2(x) + \cos^2(x) = 1$ ,  $\operatorname{tg}(x) = \operatorname{sen}(x)/\cos(x)$  y  $1 + \operatorname{tg}^2(x) = 1/\cos^2(x)$

Como caso particular vamos a resolver  $\cos(2x) - \operatorname{sen}(x) = \operatorname{sen}^2(x)$ .

Primero transformamos el  $\cos(2x)$  en función ángulo  $x$  (coseno del ángulo doble):

$\cos^2(x) - \operatorname{sen}^2(x) - \operatorname{sen}(x) = \operatorname{sen}^2(x) \rightarrow \cos^2(x) - 2 \cdot \operatorname{sen}^2(x) - \operatorname{sen}(x) = 0$ . Tenemos ahora que expresar el seno en función del coseno o al revés, utilicemos la identidad fundamental de la trigonometría  $\cos^2(x) = 1 - \operatorname{sen}^2(x)$ , con este cambio tenemos que la ecuación se transforma en ecuación en  $\operatorname{sen}(x)$ :

$$1 - \operatorname{sen}^2(x) - 2 \cdot \operatorname{sen}^2(x) - \operatorname{sen}(x) = 0 \Rightarrow 1 - 3 \cdot \operatorname{sen}^2(x) - \operatorname{sen}(x) = 0$$

Es una ecuación de segundo grado en  $\operatorname{sen}(x)$ , llamando a  $\operatorname{sen}(x) = t$  lo verás más sencillo:

$$-3t^2 - t + 1 = 0.$$

Resolviendo  $t = \operatorname{sen}(x) = \begin{cases} \frac{1 + \sqrt{13}}{-6} & (1) \\ \frac{1 - \sqrt{13}}{-6} & (2) \end{cases}$  que son dos ecuaciones como las de la primera actividad

resuelta.

$$\begin{aligned} (1) \operatorname{sen}(x) &= \frac{1 - \sqrt{13}}{-6} & \rightarrow & x = \begin{cases} 309.9^\circ + 360^\circ k \\ 230.1^\circ + 360^\circ k \end{cases} \\ (2) \operatorname{sen}(x) &= \frac{1 + \sqrt{13}}{-6} & \rightarrow & x = \begin{cases} 25.7^\circ + 360^\circ k \\ 154.3^\circ + 360^\circ k \end{cases} \end{aligned}$$

## Actividades propuestas

32. Calcula las soluciones de las siguientes ecuaciones trigonométricas:

a)  $\operatorname{sen}(x) + \cos(x) = 1$

b)  $\operatorname{sen}(2x) = 2 \cdot \cos(x)$

c)  $\operatorname{sen}^2(x) - \cos^2(x) - \cos(2x) = 1$

### 3.2. Sistemas

Tenemos un sistema de ecuaciones trigonométricas cuando al menos en una de las ecuaciones que lo forman es una ecuación trigonométrica.

Resolver los sistemas trigonométricos no siempre es sencillo. Veamos los tipos de sistemas más frecuentes:

**Nota:** En las ecuaciones trigonométricas donde las incógnitas aparezcan en ecuaciones sin estar dentro de alguna razón trigonométrica se suponen que están expresadas en radianes.

#### Sistemas resolubles por los cambios de variable o por reducción

Son sistemas donde aparecen sólo dos razones trigonométricas, tal que podemos hacer el cambio de variable y obtener un sistema de ecuaciones no trigonométricas.

#### Actividad resuelta

$$\begin{cases} \operatorname{sen}(2x) + \operatorname{cos}(3y) = 1 \\ 2 \cdot \operatorname{sen}(2x) + 4 \cdot \operatorname{cos}(3y) = 3 \end{cases}$$

Este es un ejemplo típico de cambio de variable.

$$X = \operatorname{sen}(2x), Y = \operatorname{cos}(3y) \rightarrow \begin{cases} X + Y = 1 \\ 2 \cdot X + 4 \cdot Y = 3 \end{cases}, \text{ resolviendo el sistema lineal tenemos } X = 1/2, Y = 1/2.$$

Deshaciendo el cambio de variable nos quedan ecuaciones trigonométricas del primer tipo:

$$X = 1/2 \quad \rightarrow \quad \operatorname{sen}(2x) = 1/2 \quad \rightarrow \quad x = \begin{cases} 15^\circ + 180^\circ k \\ 75^\circ + 180^\circ k \end{cases} \quad x = \begin{cases} 15^\circ + 360^\circ k \\ 195^\circ + 360^\circ k \\ 75^\circ + 360^\circ k \\ 255^\circ + 360^\circ k \end{cases}$$

$$Y = 1/2 \quad \rightarrow \quad \operatorname{cos}(3Y) = 1/2 \quad \rightarrow \quad y = \begin{cases} 100^\circ + 360^\circ k \\ 220^\circ + 360^\circ k \\ 340^\circ + 360^\circ k \\ 20^\circ + 360^\circ k \\ 140^\circ + 360^\circ k \\ 260^\circ + 360^\circ k \end{cases}$$

**Actividad resuelta**

$$\begin{cases} (1) y + \cos^2(x) = 1 \\ (2) 2 \cdot y + 2 \cdot \operatorname{sen}^2(x) = 0 \end{cases}$$

Podemos obtener una ecuación sin más que restar la ecuación (2) menos dos veces la ecuación (1)

$$2 \cdot (1) - (2) \rightarrow 2 \cdot \cos^2(x) - 2 \cdot \operatorname{sen}^2(x) = 2,$$

Se resuelve transformando el seno en coseno o al revés mediante la igualdad fundamental:

$$\cos^2 x = 1 - \operatorname{sen}^2 x$$

$$2 - 2\operatorname{sen}^2(x) - 2\operatorname{sen}^2(x) = 2 \rightarrow \operatorname{sen}^2(x) = 0 \rightarrow x = \begin{cases} 0^\circ + 360^\circ k \\ 180^\circ + 360^\circ k \end{cases}$$

$$y = 1 - \cos^2(x) = \operatorname{sen}^2(x) = 0.$$

**Actividades propuestas**

33. Resuelve los siguientes sistemas

$$a) \begin{cases} x + \operatorname{sen}^2 y = 2 \\ x + \cos^2 y = 1 \end{cases}$$

$$b) \begin{cases} \operatorname{sen}(x) \cdot \cos(y) = \frac{3}{4} \\ \cos(x) \cdot \operatorname{sen}(y) = \frac{1}{4} \end{cases}$$

**Sistemas donde una variable se puede despejar**

En este tipo de sistemas despejamos la variable y la introducimos en la ecuación trigonométrica:

**Actividad resuelta**

$$\begin{cases} \operatorname{sen}(x) + \cos(y) = 1 \\ x + y = \pi/2 \end{cases}$$

Podemos despejar en la segunda ecuación una de las dos incógnitas y sustituirla en la primera obteniendo la ecuación:  $x = \frac{\pi}{2} - y$ .

$\operatorname{sen}(\frac{\pi}{2} - y) + \cos(y) = 1$ , utilizando la relación de ángulos complementarios  $\operatorname{sen}(\frac{\pi}{2} - y) = \cos(y)$ , con lo que

la ecuación es  $\cos(y) + \cos(y) = 1 \rightarrow \cos(y) = 1/2 \rightarrow y = \begin{cases} 60^\circ + 360^\circ \cdot k = \frac{\pi}{3} + 2 \cdot \pi \cdot k \\ 300^\circ + 360^\circ \cdot k = \frac{5\pi}{3} + 2 \cdot \pi \cdot k \end{cases}$

$$\text{Sustituyendo } y \text{ obtendremos la } x = \begin{cases} \frac{\pi}{2} - \left(\frac{\pi}{3} + 2\pi \cdot k\right) = \frac{\pi}{6} - 2\pi \cdot k \\ \frac{\pi}{2} - \left(\frac{5\pi}{3} + 2\pi \cdot k\right) = \frac{-7\pi}{6} - 2\pi \cdot k \end{cases}$$

$$\text{Soluciones, si } x = \frac{\pi}{6} - 2\pi \cdot k \rightarrow y = \frac{\pi}{3} + 2\pi \cdot k; \text{ si } x = \frac{-7\pi}{6} - 2\pi \cdot k \rightarrow y = \frac{5\pi}{3} + 2\pi \cdot k$$

### Actividades propuestas

34. Resuelve los siguientes sistemas

$$\text{a) } \begin{cases} \text{sen}(x) - \text{sen}(y) = 0 \\ x - y = \pi \end{cases} \quad \text{b) } \begin{cases} \text{sen}(x) \cdot \text{cos}(y) = \frac{1}{2} \\ x + y = \frac{\pi}{2} \end{cases}$$

### Sistemas donde podemos eliminar las razones trigonométricas

En estos sistemas eliminamos la razón trigonométrica a partir de las funciones inversas (arco tangentes, arco coseno o arco seno). Resolvemos el sistema.

### Actividad resuelta

$$\begin{cases} \text{sen}(x - y) = \frac{\sqrt{2}}{2} \\ \text{sen}(x + y) = \frac{\sqrt{3}}{2} \end{cases} \rightarrow \begin{cases} x - y = \begin{cases} 45^\circ + 360^\circ k \\ 135^\circ + 360^\circ k \end{cases} \\ x + y = \begin{cases} 60^\circ + 360^\circ k \\ 120^\circ + 360^\circ k \end{cases} \end{cases}$$

Tenemos 4 posibles sistemas:

$$\begin{aligned} \text{a) } & \begin{cases} x - y = 45^\circ + 360^\circ k \\ x + y = 60^\circ + 360^\circ k \end{cases} \rightarrow 2x = 105^\circ + 360^\circ k \rightarrow \begin{cases} x = 52.5^\circ + 360^\circ k \rightarrow y = 7.5^\circ + 360^\circ k \\ x = 232.5^\circ + 360^\circ k \rightarrow y = 187.5^\circ + 360^\circ k \end{cases} \\ \text{b) } & \begin{cases} x - y = 45^\circ + 360^\circ k \\ x + y = 120^\circ + 360^\circ k \end{cases} \rightarrow 2x = 165^\circ + 360^\circ k \rightarrow \begin{cases} x = 82.5^\circ + 360^\circ k \rightarrow y = 37.5^\circ + 360^\circ k \\ x = 262.5^\circ + 360^\circ k \rightarrow y = 217.5^\circ + 360^\circ k \end{cases} \\ \text{c) } & \begin{cases} x - y = 135^\circ + 360^\circ k \\ x + y = 60^\circ + 360^\circ k \end{cases} \rightarrow 2x = 195^\circ + 360^\circ k \rightarrow \begin{cases} x = 97.5^\circ + 360^\circ k \rightarrow y = 322.5^\circ + 360^\circ k \\ x = 277.5^\circ + 360^\circ k \rightarrow y = 142.5^\circ + 360^\circ k \end{cases} \\ \text{d) } & \begin{cases} x - y = 135^\circ + 360^\circ k \\ x + y = 120^\circ + 360^\circ k \end{cases} \rightarrow 2x = 255^\circ + 360^\circ k \rightarrow \begin{cases} x = 127.5^\circ + 360^\circ k \rightarrow y = 352.5^\circ + 360^\circ k \\ x = 307.5^\circ + 360^\circ k \rightarrow y = 172.5^\circ + 360^\circ k \end{cases} \end{aligned}$$

### Actividad propuesta

35. Resuelve los siguientes sistemas

$$\text{a) } \begin{cases} \text{cos}(x - y) = 0 \\ \text{cos}(x + y) = 0 \end{cases} \quad \text{b) } \begin{cases} \text{sen}(x - y) = 1/2 \\ \text{cos}(x - y) = 1/2 \end{cases}$$

## 4. RESOLUCIÓN GENERAL DE TRIÁNGULOS

En este apartado, nos ocuparemos de un problema muy concreto, la resolución de triángulos. Resolver un triángulo es calcular todos sus lados y sus ángulos.

En un triángulo hay seis datos: tres lados y tres ángulos. Como veremos, un triángulo puede resolverse, en general (con las excepciones que citaremos) si de los seis datos conocemos tres cualesquiera.

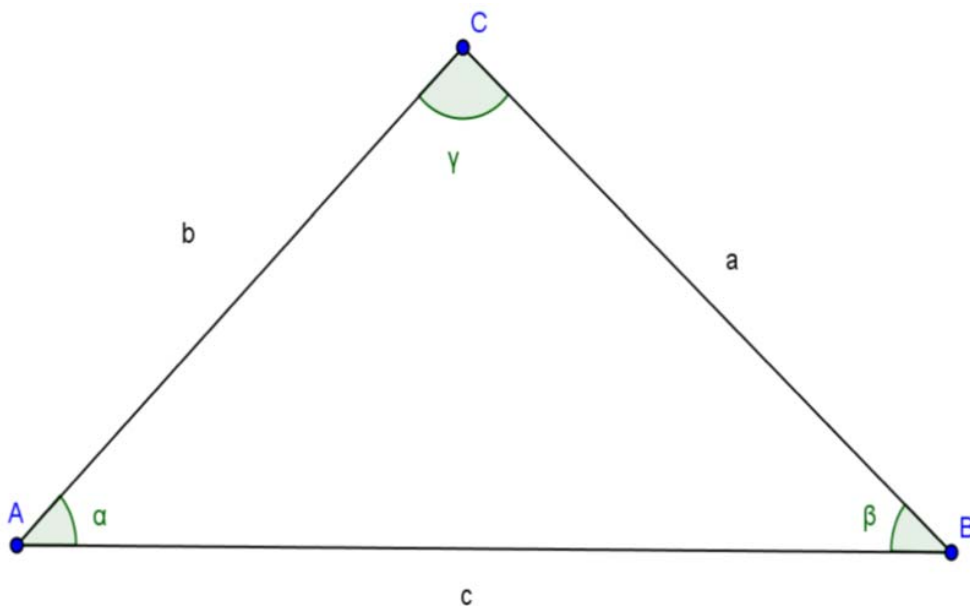
Es muy posible que de cursos anteriores ya conozcas gran parte de lo que vamos a ver en este apartado. En cualquier caso, nosotros comenzaremos desde el principio.

### Notación general

Por comodidad, vamos a representar los triángulos siempre de la misma manera, como ya habíamos visto en el apartado 1.2 para ángulos agudos. Para mayor comodidad lo vamos a repetir aquí.

1. Los vértices se representarán con letras mayúsculas,  $A$ ,  $B$ ,  $C$  ...
2. El lado opuesto a un vértice se representará con la letra minúscula correspondiente  $a$ ,  $b$ ,  $c$  ...
3. El ángulo correspondiente a un vértice se representará con la letra griega (minúscula) correspondiente. Pondremos  $\alpha$  (alfa) para el vértice  $A$ ,  $\beta$  (beta) para el vértice  $B$  y  $\gamma$  (gamma) para el vértice  $C$ . No utilizaremos más letras griegas, si necesitáramos representar más ángulos usaremos primas como en  $\alpha'$  (alfa prima) o  $\alpha''$  (alfa segunda).

Puedes ver a continuación un esquema.



### 4.1. Teorema del coseno

El teorema del coseno a veces recibe el nombre de *Teorema de Pitágoras Generalizado*, que es una descripción más exacta. Es esencialmente el teorema de *Pitágoras* para triángulos no rectángulos (y además incluye como caso especial los triángulos rectángulos).

Su enunciado es sencillo:

#### Teorema del coseno

Si  $a$ ,  $b$  y  $c$  son los lados de un triángulo cualquiera y  $\alpha$  es el ángulo entre  $b$  y  $c$  se cumple la igualdad:

$$a^2 = b^2 + c^2 - 2bc \cdot \cos\alpha$$

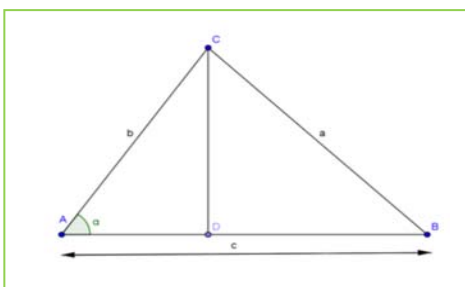
#### Notas

- Cuando el triángulo es rectángulo y  $a$  es la hipotenusa entonces  $\alpha = 90^\circ$ . Si sustituimos en la fórmula tenemos  $a^2 = b^2 + c^2 - 2bc \cos 90^\circ$ . Pero al ser  $\cos 90^\circ = 0$  la fórmula se reduce al **teorema de Pitágoras**  $a^2 = b^2 + c^2$ . Todos los problemas que se resuelven con el teorema de Pitágoras se resuelven con el teorema del coseno (pero, obviamente, no al revés).
- El teorema del coseno vale para CUALQUIER ángulo  $\alpha$ , no es necesario que sea agudo. Por ejemplo, puede
- ser  $\alpha = 110^\circ$ , lo único que el coseno sería negativo. Pero la fórmula es la misma.
- Podemos utilizar el teorema de los cosenos si en un triángulo conocemos:
  - Los tres lados.
  - Dos lados y el ángulo opuesto a uno de ellos.
  - Dos lados y el ángulo que forman.

#### Demostración del teorema

Vamos a hacerlo para un triángulo acutángulo. Dejaremos como ejercicio el caso obtusángulo (el rectángulo lo suponemos conocido, es el *Teorema de Pitágoras*).

Dibujemos un triángulo  $ABC$  y tracemos la altura correspondiente al vértice  $C$ . Esta altura puede caer sobre el lado  $AB$  o fuera de él. Vamos a considerar el primer caso, el segundo quedará como ejercicio.



Queremos calcular el lado  $a = BC$ . Por el teorema de *Pitágoras* es  $a^2 = BC^2 = CD^2 + DB^2$ . El problema es que no tenemos ni  $CD$  ni  $DB$ . Lo que sí tenemos es  $b = AC$ ,  $c = AB$  y el ángulo  $\alpha$ .

$$\text{Sabemos que } \sin(\alpha) = \frac{CD}{AC} \Rightarrow CD = AC \sin(\alpha).$$

$$\text{Sabemos también } \cos(\alpha) = \frac{AD}{AC} \Rightarrow AD = AC \cos(\alpha).$$

Pero, por construcción  $AD + DB = AB$  y  $AB$  sí lo tenemos. Luego es  $DB = AB - AD$ .

Recapitulando y escribiendo en función de  $a$ ,  $b$  y  $c$  que son los datos originales:

$$CD = AC \operatorname{sen}(\alpha) \Rightarrow CD = b \operatorname{sen}(\alpha)$$

$$DB = AB - AD = c - AC \operatorname{cos}(\alpha) = c - b \operatorname{cos}(\alpha)$$

Finalmente  $a^2 = BC^2 = CD^2 + DB^2 = [b \operatorname{sen}(\alpha)]^2 + [c - b \operatorname{cos}(\alpha)]^2$ . Basta operar un poco:

$$a^2 = [b \operatorname{sen}(\alpha)]^2 + [c - b \operatorname{cos}(\alpha)]^2 = b^2 \operatorname{sen}^2(\alpha) + c^2 - 2bc \operatorname{cos}(\alpha) + b^2 \operatorname{cos}^2(\alpha)$$

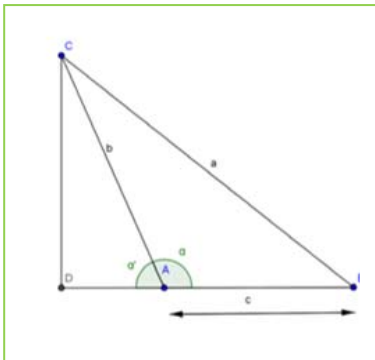
$$a^2 = b^2 \operatorname{sen}^2(\alpha) + b^2 \operatorname{cos}^2(\alpha) + c^2 - 2bc \operatorname{cos}(\alpha) = b^2 [\operatorname{sen}^2(\alpha) + \operatorname{cos}^2(\alpha)] + c^2 - 2bc \operatorname{cos}(\alpha)$$

Pero  $\operatorname{sen}^2 \alpha + \operatorname{cos}^2 \alpha = 1$  con lo que finalmente tenemos el resultado deseado.

### Actividades propuestas

**36.** ¿Qué ocurre cuando la altura cae FUERA del segmento  $AB$ ? En otras palabras, si tenemos la figura que ves a la derecha. Demuestra el teorema del coseno en ese caso [*Pista*: los únicos cambios aparecen al despejar  $AD$  que se suma en vez de restar].

**37.** Demuestra que el teorema del coseno también vale para ángulos entre 90 y 180 grados. Para ello, procede como sigue:

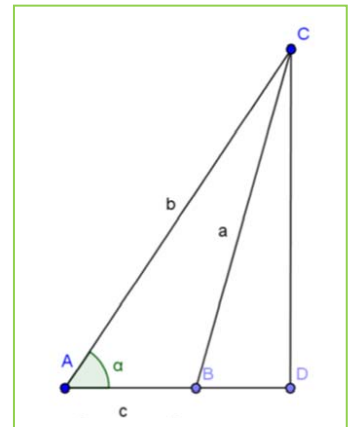


a) En la figura que tienes a tu izquierda considera el ángulo  $\alpha'$ . Se cumple que  $\operatorname{cos}(\alpha') = -\operatorname{cos}(\alpha)$  ¿Por qué?

b) Considera el triángulo rectángulo  $DBC$  y pon  $a$  en función de  $CD$  y  $DB$ .

c) De la misma manera que antes, pon  $CD$  y  $DB$  en función de  $b$ ,  $c$  y  $\alpha'$ .

d) Sustituye en la expresión para  $a$  hasta llegar a una fórmula para  $a$  en función de  $b$ ,  $c$  y  $\alpha'$ . Al sustituir el  $\operatorname{cos}(\alpha') = -\operatorname{cos}(\alpha)$  tienes el resultado.



**38.** Dibuja un triángulo con  $b = 5$ ,  $c = 8$  y el ángulo entre ellos  $\alpha = 40^\circ$  (usa una regla y un transportador). Calcula el otro lado con el teorema del coseno y comprueba que coincide con el resultado medido. No te saldrá exactamente por el redondeo y el error de medición, pero debería ser muy similar.

**39.** Un triángulo tiene de lados 3, 5 y 7. Calcula sus ángulos.

**40.** En un triángulo  $ABC$ , los lados  $AB$  y  $AC$  miden 3 y 2 cm respectivamente. El ángulo  $\beta$  correspondiente al vértice  $B$  mide 30 grados.

a) Utiliza el teorema del coseno para calcular el otro lado. Obtendrás dos soluciones.

b) Las dos soluciones se deben a que hay dos triángulos ¿serías capaz de dibujarlos?

## 4.2. Teorema del seno

El teorema del coseno es sólo la mitad de las herramientas que necesitamos para resolver triángulos. La otra mitad es el teorema del seno, que vamos a definir a continuación. Su enunciado y demostración son más sencillos que el teorema del coseno.

### Teorema del seno:

En todo triángulo los lados son proporcionales a los senos de sus ángulos opuestos.

$$\frac{a}{\operatorname{sen}(\alpha)} = \frac{b}{\operatorname{sen}(\beta)} = \frac{c}{\operatorname{sen}(\gamma)}$$



### Ley de Senos y Ley de Cosenos, resolución de triángulos oblicuángulos

<https://www.youtube.com/watch?v=Hv7BhKrZiI0>



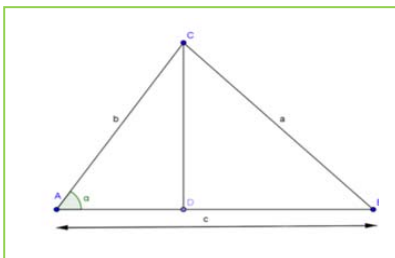
### Notas

- Como antes el teorema del seno vale para CUALQUIER ángulo  $\alpha$ , no es necesario que sea agudo. En este caso además el seno es siempre positivo pues los lados de un triángulo suman 180 grados. Y obviamente ningún ángulo puede ser  $0^\circ$  o  $180^\circ$ , porque nos quedamos sin triángulo.
- El teorema del seno es preferible al del coseno si conocemos:
  - a) Dos ángulos (es decir, tres ángulos) y un lado.
  - b) Dos lados y el ángulo opuesto a uno de ellos.

### Demostración del teorema

Como antes, vamos a hacerlo para un triángulo acutángulo y dejaremos como ejercicio los otros casos, el caso obtusángulo (el rectángulo lo suponemos conocido, es el Teorema de *Pitágoras*).

Dibujemos un triángulo  $ABC$  y tracemos la altura correspondiente al vértice  $C$ . Esta altura puede caer sobre el lado  $AB$  o fuera de él. Vamos a considerar el primer caso, el segundo quedará como ejercicio.



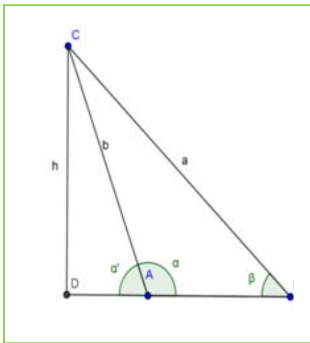
Por definición de seno, tenemos  $\operatorname{sen}(\alpha) = \frac{h}{b}$  y también  $\operatorname{sen}(\beta) = \frac{h}{a}$ . De este modo, despejando  $h$  en los dos lados e igualando  $b \operatorname{sen}(\alpha) = h = a \operatorname{sen}(\beta)$ .

$$\text{En otras palabras } b \operatorname{sen}(\alpha) = a \operatorname{sen}(\beta) \Rightarrow \frac{a}{\operatorname{sen}(\alpha)} = \frac{b}{\operatorname{sen}(\beta)}.$$

Con el mismo razonamiento para el ángulo  $\gamma$  correspondiente al vértice  $C$  se tiene la otra igualdad.

Al igual que en el teorema anterior, en las actividades propuestas veremos el otro caso.

## Actividades propuestas



- 41.** ¿Qué ocurre cuando la altura cae FUERA del segmento  $AB$ ? En otras palabras, si tenemos la figura que ves a la derecha. Demuestra el teorema del seno en ese caso [*Pista:* hay que utilizar  $\alpha'$  en vez de  $\alpha$  y ver la relación entre el seno de ambos ángulos]
- 42.** El ejercicio anterior ya demuestra que el teorema del seno vale para triángulos obtusángulos ¿por qué? Demuestra el teorema para un triángulo rectángulo usando que  $\text{sen}90^\circ = 1$
- 43.** Como antes, dibuja un triángulo con  $b = 5$ ,  $c = 8$  y el ángulo entre ellos  $\alpha = 40^\circ$ . Calcula con el teorema del seno el ángulo opuesto al lado  $b$  y calcula, SIN UTILIZAR EL TEOREMA DEL COSENO el otro ángulo y el lado que falta. Comprueba que te sale lo mismo que si hubieras utilizado el teorema del coseno para calcular  $a$ .
- 44.** Un triángulo tiene dos ángulos que valen 40 y 60 grados respectivamente. El lado entre ellos es de 8 cm. Calcula todos sus ángulos y lados.
- 45.** En un triángulo  $ABC$ , los lados  $AB$  y  $AC$  miden 3 y 2 cm respectivamente. El ángulo  $\beta$  correspondiente al vértice  $B$  mide 30 grados.
- Utiliza el teorema del seno para calcular el otro ángulo. Hay dos soluciones porque hay dos ángulos con el mismo seno. Calcula los dos.
  - Las dos soluciones se deben a que hay dos triángulos, ¿serías capaz de dibujarlos?

## Problemas con el teorema del seno. Las soluciones obtusa y aguda

Si sabemos que un ángulo  $\alpha$  está entre  $0^\circ$  y  $180^\circ$  y conocemos su coseno, el ángulo está determinado. Eso significa que, con el teorema del coseno, siempre podemos calcular ángulos de un triángulo sin ambigüedad.

Pero no ocurre lo mismo con el teorema del seno. Dado el seno de un ángulo, hay dos ángulos entre  $0^\circ$  y  $180^\circ$  cuyo seno coincide. En efecto,  $\text{sen}(30^\circ) = \text{sen}(150^\circ)$ ,  $\text{sen}(40^\circ) = \text{sen}(140^\circ)$  y en general  $\text{sen}(\alpha) = \text{sen}(180^\circ - \alpha)$ . Sólo lo tenemos identificado cuando  $\text{sen}(\alpha) = 1$  que da únicamente  $\alpha = 90^\circ$ .

Por eso, si utilizamos el teorema del seno para calcular ángulos, hay dos soluciones, la solución aguda y la solución obtusa. En algunas ocasiones esto está bien porque hay dos triángulos posibles, pero en otras simplemente estamos introduciendo soluciones falsas.

¿Cómo arreglar este problema? Hay dos maneras. La más fácil es no utilizar nunca el teorema del seno para calcular ángulos, sino sólo lados.

La otra manera es utilizarlo para el cálculo de ángulos, PERO ASEGURÁNDONOS DE QUE EL ÁNGULO ES AGUDO, ¿y cómo saber esto? Pues con el siguiente resultado.

Si un triángulo es obtusángulo, el ángulo obtuso es opuesto al lado más grande.

**Demostración del teorema**

Supongamos un triángulo obtusángulo de lados  $a$ ,  $b$  y  $c$  con  $\alpha$  el ángulo opuesto a " $a$ " obtuso. Debemos ver  $a > b$  y  $a > c$ .

Por el teorema del coseno  $a^2 = b^2 + c^2 - 2ab\cos(\alpha)$ . Como el ángulo  $\alpha$  es obtuso entonces  $\cos(\alpha) < 0$  y  $2ab\cos(\alpha) > 0$ . Eso significa  $c^2 + 2ab\cos(\alpha) > 0$  y por tanto  $a^2 > b^2$ . Como los dos son positivos, tomando raíces se deduce  $a > b$ . Del mismo modo se demuestra que  $a > c$ .

**4.3. Resolución general de triángulos**

Con las herramientas de que disponemos, ya podemos solucionar el problema general de la trigonometría, es decir, resolver triángulos cualesquiera.

Un triángulo tiene seis datos. Para resolverlo necesitamos tres de ellos y al menos uno de ellos debe ser un lado.

**Herramientas fundamentales**

- ✓ Teorema del seno
- ✓ Teorema del coseno
- ✓ La suma de los ángulos del triángulo es  $180^\circ$

Para evitar que los errores se propaguen es recomendable utilizar los datos que nos dan inicialmente, y no los que hemos ido calculando.

No siempre un triángulo se puede resolver pues con los datos dados nos pueden aparecer soluciones imposibles. También a veces con los datos dados tendremos dos soluciones. El caso más problemático es cuando se conocen dos lados y uno de los ángulos que no formen los dos lados.

Vamos a continuación a describir la situación con todo el detalle en todos los casos.

**Conocidos tres lados**

Puede ocurrir:

- Una única solución
- Ninguna solución: esto ocurre cuando un lado es mayor o igual que la suma de los otros dos, o menor o igual que la resta de los otros dos.

**Método recomendado para tres lados**

- ✓ Si  $a$  es el lado mayor, calcular  $\alpha$  (el ángulo opuesto) planteando el teorema del coseno en la forma  $a^2 = b^2 + c^2 - 2ab\cos(\alpha)$ . Si sale  $\cos \alpha \geq 1$  o  $\cos \alpha \leq -1$  es que no hay solución.
- ✓ Calcular cualquiera de los otros dos ángulos con el teorema del seno.
- ✓ Calcular el tercer ángulo usando que la suma de los ángulos del triángulo es  $180^\circ$ .

### Actividad resuelta

✚ Resolver un triángulo si sus lados son  $a = 2$  cm,  $b = 4$  cm,  $c = 5$  cm.

#### Solución:

El lado más grande es  $c$  de modo que lo ponemos a la izquierda en el planteamiento del teorema del coseno. Así pues  $c^2 = a^2 + b^2 - 2ab \cos(\gamma)$ .

Sustituyendo tenemos.  $5^2 = 2^2 + 4^2 - 2 \cdot 2 \cdot 4 \cdot \cos \gamma \Rightarrow 25 - 4 - 16 = -16 \cos \gamma$

Queda  $\cos \gamma = \frac{5}{-16} \Rightarrow \gamma = \arccos\left(-\frac{5}{16}\right) = 108.21^\circ$

Fíjate que no hemos tenido ningún problema porque el ángulo fuera obtuso. Con el seno habríamos tenido que distinguir casos.

Podemos ahora calcular cualquiera de los otros ángulos con el teorema del seno. Como ya sabemos que son agudos (porque ya hemos calculado el único que podía ser obtuso) no hay problema. Por ejemplo, vamos a calcular  $\beta$ . Podríamos haber calculado  $\alpha$  igualmente.

$\frac{\text{sen}(\gamma)}{c} = \frac{\text{sen}(\beta)}{b}$ . Sustituyendo  $\frac{\text{sen}(108.21^\circ)}{5} = \frac{\text{sen}(\beta)}{4} \Rightarrow \text{sen}(\beta) = \frac{4 \text{sen}(108.21^\circ)}{5} = 0.76$

De ahí obtenemos  $\beta = \arcsen(0.76) = 49.46^\circ$ .

Finalmente  $\alpha + \beta + \gamma = 180^\circ \Rightarrow \alpha = 180^\circ - 108.21^\circ - 49.46^\circ = 22.33^\circ$

Con este método no estamos utilizando los datos iniciales en cada momento y por eso podemos tener errores de redondeo. Recomendamos tomar al menos dos decimales.

De una manera un poco más lenta, podemos usar sólo los datos iniciales.

### Método para tres lados sólo con datos iniciales

Calcular TODOS los ángulos despejando con el teorema del coseno.

### Actividad resuelta

✚ Resolver un triángulo si sus lados son  $a = 2$  cm,  $b = 4$  cm,  $c = 5$  cm.

#### Solución:

Ahora podemos hacerlo en el orden que queramos, porque cada uno de ellos no afecta a los de antes. Lo único, que si empezamos por el más grande sabemos antes si no hay solución. Pero como ya hemos visto antes que sí la hay, empezamos calculando  $\alpha$  para ver que sale lo mismo.

$a^2 = b^2 + c^2 - 2bc \cos(\alpha) \Rightarrow 2^2 = 4^2 + 5^2 - 2 \cdot 4 \cdot 5 \cdot \cos \alpha \Rightarrow 4 - 16 - 25 = -40 \cos(\alpha)$  o, lo que es lo mismo  $\cos \alpha = \frac{-37}{-40} \Rightarrow \alpha = \arccos\left(\frac{37}{40}\right) = 22.33^\circ$

De la misma manera  $\cos(\beta) = \arccos\left(\frac{4^2 - 2^2 - 5^2}{-2 \cdot 5 \cdot 2}\right) = \arccos\left(\frac{-13}{-20}\right) = 49.46^\circ$ .

Finalmente  $\cos(\gamma) = \arccos\left(\frac{5^2 - 2^2 - 4^2}{-2 \cdot 2 \cdot 4}\right) = \arccos\left(\frac{5}{-16}\right) = 108.21^\circ$ .

Observa que APARENTEMENTE no hay ninguna diferencia con la solución anterior. Sin embargo, sí que la hay si mostramos todas las cifras. En este ejercicio, por ejemplo, hemos calculado  $\beta = \arccos\left(\frac{-13}{-20}\right) = 49.458^\circ$  pero en el anterior hemos hecho  $\beta = \arccos(0.76) = 49.464^\circ$ .

El error, en cualquier caso, es pequeño.

## Conocidos dos lados y el ángulo entre ellos

En este caso SIEMPRE hay una única solución. El método es simple.

### Método recomendado para dos lados y el ángulo que forman

- ✓ Calcular el otro lado con el teorema del coseno.
- ✓ Usar el teorema del seno para calcular un ángulo. Hay dos posibilidades, tenemos que escoger siempre la que corresponda al lado MENOR. De este modo evitamos la solución obtusa.
- ✓ Calcular el tercer ángulo usando que la suma de los ángulos del triángulo es  $180^\circ$ .

## Actividad resuelta

✚ Resolver un triángulo con lados  $a = 20$  cm,  $b = 10$  cm y ángulo  $\gamma = 60^\circ$

### Solución:

Lo primero, observa que el ángulo  $\gamma$  corresponde al vértice  $c$  y por tanto es el ángulo entre  $a$  y  $b$ .

Por el teorema del coseno:

$$c^2 = a^2 + b^2 - 2ab \cdot \cos \gamma \rightarrow c^2 = 400 + 100 - 400 \cdot \cos(60^\circ) \rightarrow c = \sqrt{300} = 17.32 \text{ cm.}$$

Podemos aplicar el teorema del seno al ángulo  $\alpha$ , correspondiente al lado  $a = 20$  cm o al ángulo  $\beta$ , correspondiente al lado  $b = 10$  cm. Para evitar la solución obtusa escogemos  $\beta$  pues es agudo (recuerda, si hay un ángulo obtuso debe corresponder al lado más grande).

$$\frac{\text{sen}(\beta)}{b} = \frac{\text{sen}(\gamma)}{c} \Rightarrow \frac{\text{sen}(\beta)}{10} = \frac{\text{sen}(60^\circ)}{\sqrt{300}} \Rightarrow \text{sen}(\beta) = 0.5 \Rightarrow \beta = 30^\circ.$$

Finalmente, restando tenemos  $\alpha = 180^\circ - \beta - \gamma = 180^\circ - 30^\circ - 60^\circ = 90^\circ$ . No habríamos tenido problemas si hubiéramos aplicado el teorema del seno a  $\alpha$  pero "más vale prevenir"

## Conocidos dos lados y un ángulo que no esté entre ellos

En este caso pueden ocurrir tres cosas:

- Una única solución (por ejemplo si es un triángulo rectángulo, aunque puede haber otros casos de solución única).
- Dos soluciones.
- Ninguna solución.

Es muy parecido al otro caso, pero hay que discutir todas las posibilidades.

### Método recomendado para dos lados y un ángulo que no esté entre ellos

- ✓ Plantear el teorema del coseno. Nos aparecerá una ecuación de segundo grado.
  - a) Si no tiene solución hemos terminado. No hay tal triángulo.
  - b) Si tiene solución única procedemos con los siguientes pasos.
  - c) Si tiene dos soluciones procedemos con los siguientes pasos para cada una de ellas. Son dos triángulos.
- ✓ Usar el teorema del seno para calcular un ángulo. Hay dos posibilidades, tenemos que escoger siempre la que corresponda al lado MENOR. De este modo evitamos la solución obtusa.

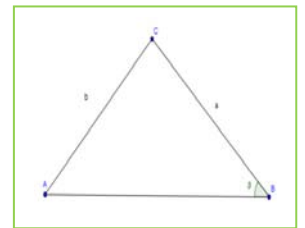
Calcular el tercer ángulo usando que la suma de los ángulos del triángulo es  $180^\circ$

### Actividad resuelta

✚ Resolver un triángulo con lados:  $a = 20$  cm,  $b = 10$  cm y ángulo  $\beta = 20^\circ$

#### Solución:

Observa que, aunque el problema es muy similar, en este caso el ángulo está en otro lugar. Y esa diferencia, que parece mínima, nos cambia todo el problema. Sabemos que el triángulo tiene que ser de la forma que aparece a la derecha. El triángulo no está a escala, es simplemente un esquema. Puesto que sólo conocemos un ángulo, debemos aplicar el teorema del coseno a ese ángulo.  $b^2 = a^2 + c^2 - 2ac \cos \beta$ .



Sustituyendo obtenemos  $10^2 = 20^2 + c^2 - 2 \cdot 20 \cdot c \cdot \cos(20^\circ)$ , es decir  $100 = 400 + c^2 - 40 \cdot c \cdot 0.94$  o, expresado como ecuación de segundo grado  $c^2 - 37.60c + 300 = 0$ .

Resolviendo  $c = \frac{37.6 \pm \sqrt{37.6^2 - 4 \cdot 300}}{2}$  nos da dos soluciones,  $c = 26.11$  y  $c = 11.49$ .

Hay por tanto dos triángulos. Uno con  $a = 20$ ,  $b = 10$ ,  $c = 26.11$  y otro con  $a = 20$ ,  $b = 10$ ,  $c = 11.49$ .

Vamos a resolver el primero.

El único ángulo que puede ser obtuso es el  $\gamma$ . Por tanto, vamos a calcular el  $\alpha$ . Con el teorema del seno

$$\frac{\text{sen}(\alpha)}{a} = \frac{\text{sen}(\beta)}{b} \Rightarrow \frac{\text{sen}(\alpha)}{20} = \frac{\text{sen}(20^\circ)}{10} \Rightarrow \text{sen}(\alpha) = \frac{20}{10} \text{sen}(20^\circ) = 0.68 \Rightarrow \alpha = \arcsen(0.68) = 42.84^\circ$$

$$\text{Finalmente, } \gamma = 180^\circ - 42.84^\circ - 20^\circ = 117.16^\circ$$

El segundo es diferente puesto que ahora  $\alpha$  puede ser obtuso. Así pues, tenemos que calcular  $\gamma$ .

$$\frac{\text{sen}(\gamma)}{c} = \frac{\text{sen}(\beta)}{b} \Rightarrow \frac{\text{sen}(\gamma)}{11.49} = \frac{\text{sen}(20^\circ)}{10} \Rightarrow \text{sen}(\gamma) = \frac{11.49}{10} \text{sen}(20^\circ) = 0.39 \Rightarrow \gamma = \arcsen(0.39) = 22.95^\circ$$

$$\text{Finalmente, } \alpha = 180^\circ - 22.95^\circ - 20^\circ = 137.05^\circ$$

En resumen, dos triángulos solución:

$$a = 20 \text{ cm, } b = 10 \text{ cm, } c = 26.11 \text{ cm, } \alpha = 42.84^\circ, \beta = 20^\circ, \gamma = 117.16^\circ.$$

$$a = 20 \text{ cm, } b = 10 \text{ cm, } c = 11.49 \text{ cm, } \alpha = 137.05^\circ, \beta = 20^\circ, \gamma = 22.95^\circ.$$

## Conocido un lado y dos ángulos

En este caso pueden ocurrir son cosas:

1. Ninguna solución (si los dos ángulos suman 180 grados o más).
2. Una única solución.

Este caso es especialmente sencillo.

### Método recomendado para dos ángulos y un lado

- ✓ Calcular el tercer ángulo usando que la suma de los ángulos del triángulo es  $180^\circ$ . Si los dos ángulos que nos dan suman 180 grados o más no hay solución.
- ✓ Usar el teorema del seno para calcular los otros lados.

## Actividad resuelta

✚ Resolver un triángulo con lado  $a = 10 \text{ cm}$  y ángulos  $\gamma = 60^\circ$  y  $\alpha = 80^\circ$

**Solución:**

El ángulo  $\beta$  se calcula sin dificultad como  $\beta = 180^\circ - 60^\circ - 80^\circ = 40^\circ$ .

Podemos ahora usar el teorema del seno:

$$\frac{\text{sen}(\alpha)}{a} = \frac{\text{sen}(\gamma)}{c} \Rightarrow \frac{\text{sen}(80^\circ)}{10} = \frac{\text{sen}(60^\circ)}{c} \Rightarrow c = \frac{\text{sen}(60^\circ)}{\text{sen}(80^\circ)} \cdot 10 = 8.79 \text{ cm}$$

Es conveniente, al calcular el ángulo, poner las proporciones el revés. Desde luego, no es obligatorio, ya ves que el anterior lo hemos hecho sin cambiar. Lo dejamos a tu elección cómo quieras hacerlo.

$$\frac{a}{\text{sen}(\alpha)} = \frac{b}{\text{sen}(\beta)} \Rightarrow \frac{10}{\text{sen}(80^\circ)} = \frac{b}{\text{sen}(40^\circ)} \Rightarrow b = \frac{\text{sen}(40^\circ)}{\text{sen}(80^\circ)} \cdot 10 = 6.53 \text{ cm}$$

Observa que con los tres ángulos no se pueden calcular los lados. Dos triángulos con los ángulos iguales son semejantes, pero los lados no se pueden calcular sin tener algún otro lado.

#### 4.4. Problemas de trigonometría con medidas simples y dobles

Ahora que ya sabemos resolver cualquier tipo de triángulo, podemos también resolver problemas con varias medidas y no estamos restringidos a triángulos rectángulos. Por eso tenemos mucha libertad para resolverlos.

El problema típico de doble medida es tener dos ángulos [de ahí la doble medida] y una distancia y buscar calcular otra. Algunos ejemplos son:

- Desde un punto vemos el punto más alto de una torre con un ángulo de 30 grados y al acercarnos 5 metros se ve con un ángulo de 40 grados. Calcular la altura de la torre.
- Un globo está en la vertical entre dos observadores separados por 40 m. El primero lo ve con un ángulo de 30 grados y el segundo con un ángulo de 50 grados, ¿a qué altura está el globo?
- En un viaje de alumnos de 4º de E.S.O. a Londres, algunos de los viajeros hicieron prácticas de trigonometría. Al conocer que las torres de la Abadía de Westminster tienen 30 metros de altura, decidieron aprovechar sus conocimientos para calcular la altura de la conocida torre Big Ben. Desde un punto intermedio entre ambos edificios se divisa el punto más alto de la Abadía con ángulo de 60º, y el Big Ben con un ángulo de 45º. Si la distancia entre las bases de las torres de los dos edificios es de 50 metros, ¿cuál fue el resultado de sus cálculos?, ¿a qué distancia se encontraba de cada edificio? (**Nota:** Los datos son totalmente ficticios y este problema está sacado de un libro de cuarto de la ESO también de Marea Verde).

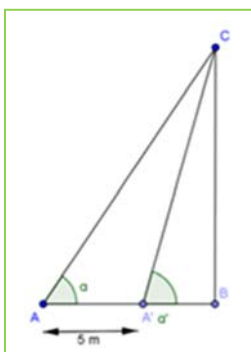
Usualmente hay dos maneras de resolver un problema:

- Dividiendo el problema en varios triángulos rectángulos y planteando un sistema.
- Ir calculando una a una las medidas mediante dos triángulos no necesariamente rectángulos.

Vamos a resolver el primero. Los demás los dejaremos como ejercicio al final de esta misma sección.

#### Actividad resuelta

- ✚ Desde un punto vemos el punto más alto de una torre con un ángulo de 30 grados y al acercarnos 5 metros se ve con un ángulo de 40 grados. Calcular la altura de la torre de dos maneras distintas.



#### Solución:

En primer lugar, vamos a resolverlo con un sistema. Antes de nada, dibujaremos la figura y pondremos nombre a las cosas.

El punto alejado lo llamamos  $A$  y a su ángulo  $\alpha$ . El punto más cercano lo llamamos  $A'$  y a su ángulo  $\alpha'$ .  $B$  es el pie de la torre y  $C$  su punto más alto.

Planteando un sistema tenemos:

$$\operatorname{tg}(\alpha) = \frac{BC}{AB} = \frac{BC}{5 + A'B} \quad \operatorname{tg}(\alpha') = \frac{BC}{A'B}$$

Pero las tangentes las tenemos.  $\operatorname{tg}(\alpha) = \operatorname{tg}(30^\circ) = 0.58$  y  $\operatorname{tg}(\alpha') = \operatorname{tg}(40^\circ) = 0.84$ . Por comodidad llamamos  $y = BC$ ,  $x = A'B$ .



Así pues, tenemos el sistema:

$$\begin{cases} 0.58 = \frac{y}{5+x} \\ 0.84 = \frac{y}{x} \end{cases}$$

Para resolverlo, lo más fácil es dividir miembro a miembro las dos ecuaciones.

$$\frac{0.84}{0.58} = \frac{\frac{y}{x}}{\frac{y}{5+x}} \Rightarrow 1.45 \Leftrightarrow \left(\frac{y}{x}\right) \div \left(\frac{y}{x+5}\right) = \frac{y(x+5)}{yx} = \frac{x+5}{x}$$

$$1.45x = x + 5 \Rightarrow 0.45x = 5 \Rightarrow x = \frac{5}{0.45} = 11.11 \text{ m.}$$

Pero lo que nos interesa es  $y$ . Así pues  $0.84 = \frac{y}{11.11} \Rightarrow y = 11.11 \cdot 0.84 = 9.33 \text{ m.}$

Vamos ahora a resolverlo directamente. En el triángulo  $A'BC$  tenemos sólo dos ángulos ( $\alpha' = 40^\circ$  y el otro de  $90^\circ$ ). Necesitamos un lado para resolverlo. Y nos vale cualquier lado.

Así pues, vamos a calcular el lado común con otro triángulo. Del triángulo  $AA'C$  tenemos un lado ( $AA'$ ) y el ángulo  $\alpha = 30^\circ$ . Necesitamos algo más. Pero tenemos  $\alpha' = 40^\circ$  así que también tenemos su complementario, al que llamaremos  $\alpha''$  y que obviamente vale  $140^\circ = 180^\circ - 40^\circ$ . Por tanto, en  $AA'C$  tenemos dos lados y un ángulo. Podemos resolverlo.

No nos interesa el triángulo entero, solamente el lado común con  $A'BC$ . Aplicamos el método recomendado.

En primer lugar, el ángulo que queda,  $\gamma$ , vale  $10^\circ$  pues es  $10^\circ = 180^\circ - 140^\circ - 30^\circ$ .

Utilizamos el teorema del seno:  $\frac{A'C}{\text{sen}(\alpha)} = \frac{AA'}{\text{sen}(\gamma)}$ .

Sustituyendo  $\frac{A'C}{\text{sen}(30^\circ)} = \frac{5}{\text{sen}(10^\circ)} \Rightarrow AC = \frac{\text{sen}(30^\circ)}{\text{sen}(10^\circ)} 5 = 14.38 \text{ m}$

Por tanto, ya tenemos dos lados y dos ángulos. Podemos aplicar el teorema del seno a  $A'BC$ :

$$\frac{BC}{\text{sen}(\alpha')} = \frac{A'C}{\text{sen}(90^\circ)} \Rightarrow \frac{BC}{\text{sen}(40^\circ)} = \frac{14.38}{1} \Rightarrow BC = 14.38 \text{sen}(40^\circ) = 9.24 \text{ m}$$

Hay una pequeña diferencia debido al redondeo. Si haces los cálculos usando todos los decimales de la calculadora puedes comprobar que sale 9.25416578 en los dos casos.

## Actividades propuestas



**46.** Un globo está en la vertical entre dos observadores separados por 40 m. El primero lo ve con un ángulo de 30 grados y el segundo con un ángulo de 50 grados, ¿a qué altura está el globo?

**47.** En un viaje de alumnos de 4º de E.S.O. a Londres, algunos de los viajeros hicieron prácticas de trigonometría. Al conocer que las torres de la Abadía de Westminster tienen 30 metros de altura, decidieron aprovechar sus conocimientos para calcular la altura de la conocida torre Big Ben. Desde un punto intermedio entre ambos edificios se divisa el punto más alto de la Abadía con ángulo de

$60^\circ$ , y el Big Ben con un ángulo de  $45^\circ$ . Si la distancia entre las bases de las torres de los dos edificios es de 50 metros, ¿cuál fue el resultado de sus cálculos?, ¿a qué distancia se encontraba de cada edificio?

## CURIOSIDADES. REVISTA

### Sobre la redondez de la Tierra

¿Desde cuándo sabemos que la Tierra es redonda y no plana? (más bien habría que decir esférica, pero todo el mundo dice redonda). Un error relativamente común es, pensar que todo el mundo opinaba que la Tierra era plana hasta el siglo XV. Entonces Colón descubrió América en el siglo XV y convenció a casi todo el mundo. Y luego Fernando de Magallanes y Juan Sebastián Elcano dieron la primera vuelta al mundo y disiparon todas las dudas.

Bien, pues ¡¡no es cierto!! Se sabe que la Tierra es redonda desde la Antigüedad. No sólo eso. Desde el siglo III a.C. se conoce su radio y por tanto su circunferencia. Así que ya antes de Cristo se sabía cuánto tenía que navegar Colón para dar la vuelta al mundo.

Entonces, ¿de qué tuvo que convencer Colón a sus patrocinadores? Ciertamente no de la redondez de la Tierra. Colón pensaba que la circunferencia de la Tierra era más pequeña y que Japón estaba más cerca de los datos más precisos que tenían los científicos de la época. De hecho, afirmaba que sólo había unos 3 700 km de las islas Canarias a Japón (la cifra real son 12 500 Km).

Hay cierto debate sobre si realmente Colón pensaba eso o si simplemente sabía que había tierra a esa distancia y se limitó a coger las estimaciones que más se ajustaban a su idea. Pero todo eso nos aleja de la pregunta fundamental que queríamos responder, ¿cómo sabían los antiguos que la Tierra era redonda?



**Retrato de Colón.**

Fuente: [Imagen en wikipedia](#)



**Mapa de Toscanaelli**

*Possible mapa en que se basó Colón para planear su viaje.*

Fuente: [Imagen en wikipedia](#)

## Eratóstenes y el radio de la Tierra

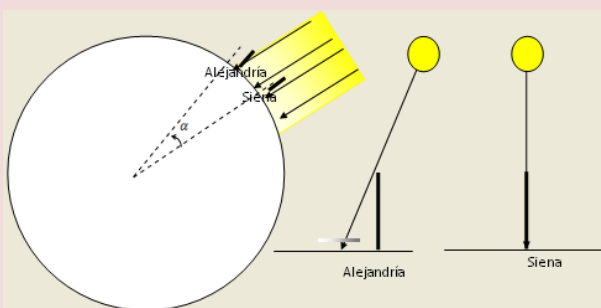
No está claro desde cuándo se sabe que la Tierra es redonda. Algunos dicen que fue *Pitágoras* (siglo VI a.C.) el primero en afirmarlo. También se afirma de otros griegos más o menos de la misma época como *Parménides*, *Zenón* o Hesíodo. Lo que sí se sabe es que a partir del siglo V a.C. la idea generalizada era que la Tierra era redonda.

La evidencia venía, entre otros factores, del hecho de que algunas estrellas que se ven desde *Egipto* no se veían desde *Grecia*. Eso sólo puede ocurrir si la Tierra es curva. También en los eclipses, la sombra de la Tierra sobre la Luna es siempre circular independientemente de cómo sea el eclipse. La única figura que siempre da sombras circulares es la esfera.

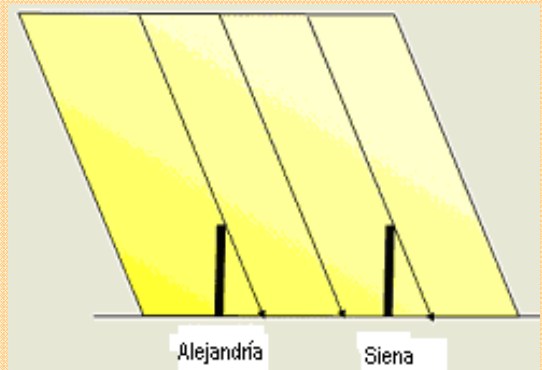
Sin embargo, hasta el siglo III a.C. sólo era una cuestión filosófica. El primero que midió realmente el radio de la Tierra y por tanto calculó su tamaño fue *Eratóstenes de Cirene*.

El griego *Eratóstenes* vivió en Alejandría entre los años 276 a. C. y 194 a.C. Era un conocido matemático, astrónomo y geógrafo de la época. Entre otros trabajos uno de los más conocidos y aplicados en la actualidad es la denominada “Criba de *Eratóstenes*” para el cálculo de números primos.

El experimento realizado por *Eratóstenes* era genial en su sencillez: se sabía que en *Siena* (hoy *Asuán* en Egipto) los días próximos al solsticio de verano el Sol al mediodía no proyectaba sombras, es decir estaba en el perpendicular con la horizontal terrestre. En cambio, el mismo día a la misma hora en *Alejandría* esto no ocurría y los palos tenían sombra. Mediante esta observación, a *Eratóstenes* no sólo le valió para darse cuenta de que la Tierra no era plana, sino para calcular el radio de la Tierra!!! Vamos a ver gráficamente el experimento a fin de entenderlo mejor. En la siguiente sección te proponemos realizar con tu clase otra práctica similar.



Situación si la Tierra es redonda



Situación si la Tierra fuese plana

## REPLICA EL EXPERIMENTO

### Replicando los cálculos originales

Simplemente observando que lo que ocurre es que dos palos separados dan sombras distintas, ya puedes deducir que la Tierra tiene curvatura. Pero el experimento nos da mucho más que eso. Podemos calcular también el radio de la esfera.

Si te fijas bien en el esquema primero (donde la Tierra es esférica) podemos observar que los ángulos que marcan la diferencia de latitud entre las dos ciudades ( $\alpha$ ) y el ángulo de los rayos solares con el palo en *Alejandro* son iguales, pues los lados que forman ambos ángulos son paralelos. De esta forma calculando el ángulo que forma el palo de *Alejandro* con los rayos solares (con el arco tangente del cociente del tamaño de la sombra y el del palo) hemos calculado la diferencia de latitud.

Así lo hizo *Eratóstenes* y calculó este ángulo cuyo resultado fue 1/50 parte de la circunferencia, es decir,  $7^\circ 12'$ . Posteriormente, tomó la distancia estimada por las caravanas que comerciaban entre ambas ciudades, aunque bien pudo obtener el dato en la propia *Biblioteca de Alejandro*, fijándola en 5 000 estadios, un estadio 174.25 m. Con estos resultados y una simple regla de tres llegó a la siguiente conclusión, que te pedimos que compruebes con calculadora:

Diferencia Latitud	→	Distancia
1/50 partes circunferencia		$17\ 425 \cdot 5\ 000 / 1\ 000 = 871.25\text{ km}$
1 circunferencia		$x = \text{longitud circunferencia}$
$x = 871.25 \cdot 50 = 43\ 562.5\text{ km.}$		

Radio Tierra =  $\text{longitud}(x) / (2\pi) = 6\ 933\text{ m}$  (radio real 6 370 m, error inferior al 10 %)

Algunas consideraciones: Para hacer la medición de las sombras es necesario que la medición se haga a la misma "hora solar", esta sólo ocurre en el mismo instante sólo si nos encontramos en ciudades con la misma longitud (en el mismo meridiano). La diferencia entre las dos ciudades elegidas por *Eratóstenes* se diferencia en casi  $3^\circ$ .

### Realizando con tu clase un experimento similar

Vamos a realizar la experiencia con tus compañeros de clase. Para realizar la experiencia necesitas buscar la colaboración de otro instituto, cuanto más diferencia de latitud con el tuyo mejor saldrá la experiencia.

Dos son las dudas que se plantean a la hora de repetir el experimento:

- 1) ¿Necesitamos que los dos institutos estén en el mismo meridiano?
- 2) ¿Es necesario que el sol en uno de los institutos no proyecte sombra?

Vamos a resolver estas dos dudas:

- 1) Para hacer las medidas es necesario que el instante cuando miremos la sombra sea la misma "hora solar", es decir el sol estar en la "misma posición" en los dos centros. Si los dos centros no están en la misma longitud entonces tendremos que buscar el instante en cada centro en el que la hora solar sea la misma. Elegiremos la hora solar más reconocible, el mediodía solar. Es fácil reconocer este momento, por las siguientes características:

- El sol ocupa la posición más alta del día (menor sombra)
- El sol está en el Sur del horizonte (la sombra cae al Norte)

✚ La hora de reloj del mediodía varía según la época del año y la longitud del centro. Para calcularlo tendremos en cuenta las siguientes consideraciones:

✚ En España estamos una hora adelantados respecto a la hora europea. Así hay que sumar una hora a la hora del mediodía (12 h)

✚ En invierno con el cambio de hora tendremos que sumar otra hora.

✚ La hora de nuestros relojes está referida al centro del uso horario, en España el meridiano de *Greenwich*. Así al Oeste de este meridiano (que marca longitud  $0^\circ$ ) tendremos que sumar el “tiempo que tarda el sol” en llegar a la latitud del local. Si el centro se encuentra al Este del Meridiano hay que restar el “tiempo que tardó en Sol” en llegar al meridiano de *Greenwich* desde el lugar. Este valor se calcula con una sencilla regla de tres ( $24 \text{ horas} \rightarrow 360^\circ$ ). Veamos dos ejemplos:

León: Longitud  $- 5.57^\circ$ , tendremos que sumar a la hora

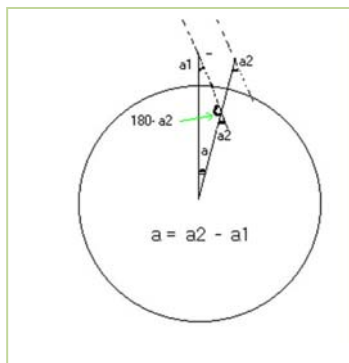
$$5.57^\circ \cdot \frac{24 \text{ h}}{360^\circ} = 22 \text{ min}$$

Girona: Longitud  $- 2.8^\circ$  tendremos que restar  $2.8^\circ \cdot \frac{24 \text{ h}}{360^\circ} = 11 \text{ min}$

✚ Ecuación del tiempo: es la diferencia entre el tiempo solar medio (medido generalmente por un reloj) y el tiempo solar aparente (tiempo medido por un reloj de sol). Genera una gráfica de esta forma

Para asentar conceptos veamos la hora real del mediodía solar en León el día 90 del año (comienzo de marzo).

$$\text{Hora mediodía} = 12 \text{ h} + 1 \text{ h (invierno)} + 1 \text{ h (horario de España)} + 22 \text{ min} + -6 \text{ (ecuación del tiempo)} = 14:16 \text{ minutos}$$

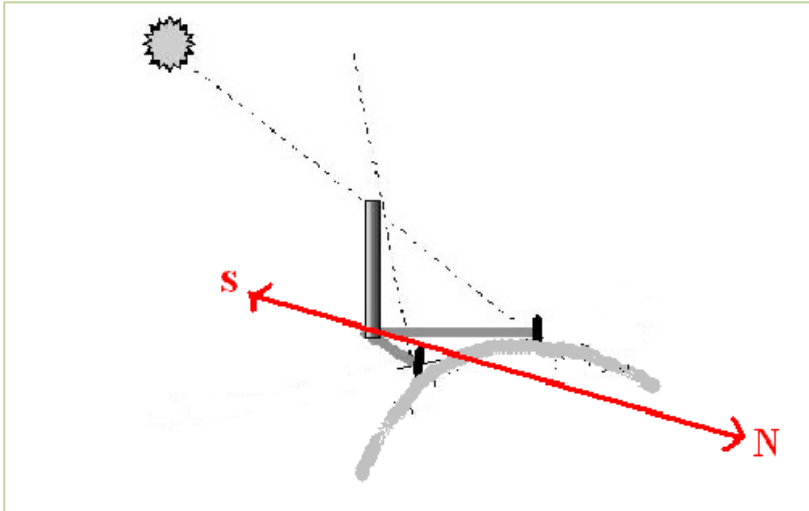


*Ecuación del tiempo*

2) El Sol sólo se sitúa en la vertical en días de verano de latitudes más próximas al ecuador. Pero esto no limita realizar la experiencia, pues la diferencia de latitud de los dos centros se calcula restando los ángulos que forma el Sol en los institutos.

## Toma de medidas y cálculo del radio

Elegimos un día (y esperamos que sea soleado...). Nuestro objetivo es calcular la altura solar (ángulo que forma el sol con un gnomon o palo perpendicular al suelo) en el mediodía. Para calcular este ángulo vamos a hacer varias medidas una hora antes y otra después del mediodía (recuerda como se calcula).



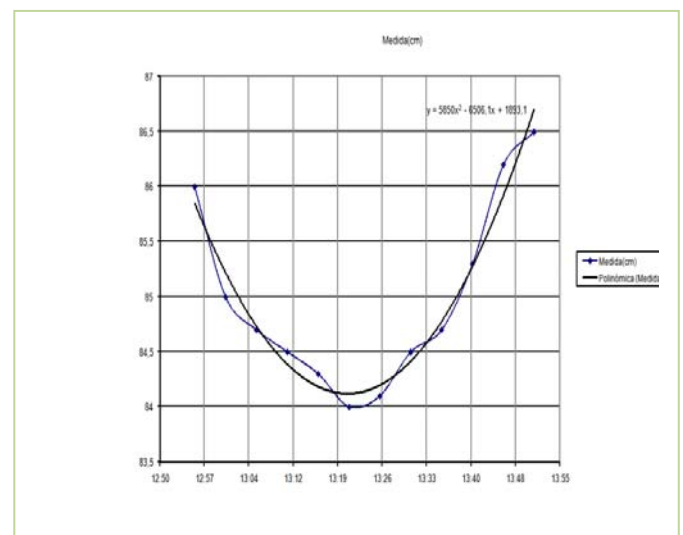
Situamos un palo perpendicular al suelo, podemos usar un recogedor y una plomada para asegurar la perpendicularidad con el suelo. Marcamos la posición en el suelo de la vertical del palo que nos da la sombra y situamos papel de *kraf* en el suelo

para poder situar sobre él la sombra del palo. Cada cinco minutos marcamos la posición del extremo de la sombra, así como la hora. La sombra se mueve del Oeste a Este (al revés del sol), además hasta el mediodía la sombra disminuye de tamaño y a partir de mediodía aumenta.

Cuando tengamos las marcas y las horas analizamos las mismas con el fin de determinar la hora del mediodía y el tamaño de la sombra en este momento (sombra más pequeña en el mediodía). Podemos hacer esto de observando el tamaño de la sombra y cogiendo el valor menor o usar una herramienta informática (como Excel) para representar el tiempo frente al tamaño cuya gráfica es una parábola, siendo el vértice de la misma el punto que nos marca la hora del mediodía y la sombra al mediodía.

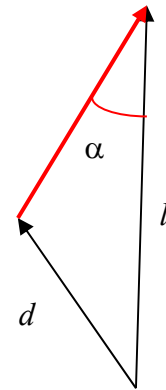

Veamos un ejemplo para asentar ideas:

Hora	Sombra(cm)	Altura solar
12:56	86	49,6
13:01	85	49,9
13:06	84,7	50,0
13:11	84,5	50,1
13:16	84,3	50,1
13:21	84	50,3
13:26	84,1	50,2
13:31	84,5	50,1
13:36	84,7	50,0
13:41	85,3	49,8
13:46	86,2	49,5
13:51	86,5	49,4



Recuerda que el vértice se calcula a partir de la expresión analítica de segundo grado  $y = ax^2 + bx + c$  siendo  $V(x_0, y_0)$  con  $x_0 = -\frac{b}{2a}$  (hora del mediodía solar) e  $y_0 = f(x_0)$  (sombra del palo en el mediodía solar).

Sólo nos falta calcular el tamaño del palo (gnomon) y con el tamaño de la sombra calcular el ángulo que forma el sol con el palo (altura solar) a partir de la tangente.

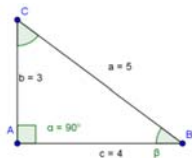
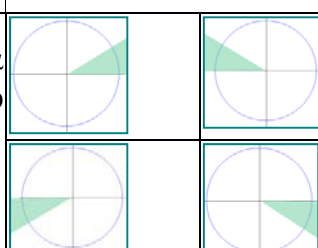


$$tg(\alpha)$$

Ya tienes el valor de tu ángulo, ahora a esperar que tus compañeros del otro instituto hayan hecho lo mismo. La diferencia entre estos dos ángulos debería ser la diferencia de latitud entre ambos centros. Utiliza algún programa informático como *sigpac* para ver la distancia (sólo en latitud) entre los dos centros y mediante una regla de tres y ¡ya tienes calculado la longitud de la circunferencia terrestre!



**RESUMEN**

<b>Radián</b>	Es un ángulo tal que cualquier arco que se le asocie mide exactamente lo mismo que el radio utilizado para trazarlo. Se denota por <i>rad</i> .		90° son $\pi/2$ rad
	Nº de radianes de un ángulo completo = $2\pi$ rad		
<b>Razones trigonométricas de un ángulo agudo</b>	$\operatorname{sen} \alpha = \frac{\text{cateto opuesto}}{\text{hipotenusa}} = \frac{b}{a}$ $\operatorname{cos} \alpha = \frac{\text{cateto adyacente}}{\text{hipotenusa}} = \frac{c}{a}$ $\tan(\alpha) = \frac{\text{cateto opuesto}}{\text{cateto adyacente}} = \frac{b}{c}$		$\operatorname{sen}(\beta) = \frac{3}{5}, \operatorname{cos}(\beta) = \frac{4}{5}$
<b>Relaciones fundamentales</b>	$(\operatorname{sen} \alpha)^2 + (\operatorname{cos} \alpha)^2 = 1$ $\tan \alpha = \frac{\operatorname{sen} \alpha}{\operatorname{cos} \alpha}$		$(\operatorname{sen} 30^\circ)^2 + (\operatorname{cos} 30^\circ)^2 =$ $= \left(\frac{1}{2}\right)^2 + \left(\frac{\sqrt{3}}{2}\right)^2 = \frac{1}{4} + \frac{3}{4} = 1$
<b>Otras razones trigonométricas</b>	$\operatorname{cosec} \alpha = \frac{1}{\operatorname{sen} \alpha} \quad \operatorname{sec} \alpha = \frac{1}{\operatorname{cos} \alpha} \quad \operatorname{cotan} \alpha = \frac{1}{\tan \alpha}$		$\operatorname{cosec} 90^\circ = 1$ $\operatorname{sec} 90^\circ \text{ No existe}$ $\operatorname{cotan} 45^\circ = 1$
<b>Reducción al primer cuadrante</b>	Las razones trigonométricas de cualquier ángulo $\alpha$ pueden expresarse en función de las de un ángulo agudo $\beta$		
<b>Reducción al primer cuadrante</b>	2º CUADRANTE	$\operatorname{sen} \alpha = \operatorname{sen} \beta \quad \gamma$ $\operatorname{cos} \alpha = -\operatorname{cos} \beta$	$\operatorname{sen} 135^\circ = \operatorname{sen} 45^\circ$ $\operatorname{sen} 200^\circ = -\operatorname{sen} 20^\circ$
	3º CUADRANTE	$\operatorname{sen} \alpha = -\operatorname{sen} \beta \quad \gamma$ $\operatorname{cos} \alpha = -\operatorname{cos} \beta$	$\operatorname{cos}(-60^\circ) = \operatorname{cos} 60^\circ$
	4º CUADRANTE	$\operatorname{sen} \alpha = -\operatorname{sen} \beta \quad \gamma \quad \operatorname{cos} \alpha = \operatorname{cos} \beta$	
<b>Fórmulas de la suma</b>	$\operatorname{sen}(a+b) = \operatorname{sen}(a) \cdot \operatorname{cos}(b) + \operatorname{cos}(a) \cdot \operatorname{sen}(b)$ $\operatorname{cos}(a+b) = \operatorname{cos}(a) \cdot \operatorname{cos}(b) - \operatorname{sen}(a) \cdot \operatorname{sen}(b)$		$\operatorname{sen}(75^\circ) = \operatorname{sen}(45^\circ) \cdot \operatorname{cos}(30^\circ) +$ $\operatorname{cos}(45^\circ) \cdot \operatorname{sen}(30^\circ) =$ $\frac{\sqrt{2}}{2} \cdot \frac{\sqrt{3}}{2} + \frac{\sqrt{2}}{2} \cdot \frac{1}{2}$

<b>Fórmulas de la resta</b>	$\begin{aligned} \operatorname{sen}(a-b) &= \operatorname{sen}(a) \cdot \cos(b) - \cos(a) \cdot \operatorname{sen}(b) \\ \cos(a-b) &= \cos(a) \cdot \cos(b) + \operatorname{sen}(a) \cdot \operatorname{sen}(b) \end{aligned}$	$\begin{aligned} \cos(15^\circ) &= \cos(45^\circ) \cdot \cos(30^\circ) + \\ &\operatorname{sen}(45^\circ) \cdot \operatorname{sen}(30^\circ) = \\ &\frac{\sqrt{2}}{2} \cdot \frac{\sqrt{3}}{2} + \frac{\sqrt{2}}{2} \cdot \frac{1}{2} \end{aligned}$
<b>Ángulo doble</b>	$\begin{cases} \operatorname{sen}(2a) = 2 \cdot \operatorname{sen}(a) \cdot \cos(a) \\ \cos(2a) = \cos^2(a) - \operatorname{sen}^2(a) \end{cases}$	$\begin{aligned} \cos(60^\circ) &= \cos^2(30^\circ) - \operatorname{sen}^2(30^\circ) \\ &= \left(\frac{\sqrt{3}}{2}\right)^2 - \left(\frac{1}{2}\right)^2 = \frac{1}{2} \end{aligned}$
<b>Ángulo mitad</b>	$\begin{cases} \operatorname{sen}\left(\frac{a}{2}\right) = \pm \sqrt{\frac{1 - \cos(a)}{2}} \\ \cos\left(\frac{a}{2}\right) = \pm \sqrt{\frac{1 + \cos(a)}{2}} \end{cases}$	$\begin{aligned} \operatorname{sen}(30^\circ) &= \sqrt{\frac{1 - \cos(60)}{2}} \\ &= \sqrt{(1 - 0.5)/2} = \sqrt{0.25} = 0.5 \end{aligned}$
<b>Teorema del coseno</b>	<p>En un triángulo <math>ABC</math> cualquiera:</p> $a^2 = b^2 + c^2 - 2bc \cos \alpha$	<p>Si <math>b = 5</math>, <math>c = 6</math> y el ángulo entre ellos es <math>30</math> grados, el lado <math>a</math> es</p> $a^2 = 5^2 + 6^2 - 60 \cos 30^\circ,$ <p>es decir <math>a = 3.01</math></p>
<b>Teorema del seno</b>	<p>En un triángulo <math>ABC</math> cualquiera:</p> $\frac{a}{\operatorname{sen}(\alpha)} = \frac{b}{\operatorname{sen}(\beta)} = \frac{c}{\operatorname{sen}(\gamma)}$	<p>Si <math>b = 5</math> y <math>a = 3.01</math> el ángulo <math>\alpha</math> cumple <math>\frac{\operatorname{sen}(\alpha)}{3.01} = \frac{\operatorname{sen}(30^\circ)}{5}</math> y da <math>\alpha = 17.52^\circ</math></p>
<b>Resolución general de triángulos</b>	<p>En general cualquier triángulo se puede resolver si conocemos tres de los seis datos (hay tres lados y tres ángulos). Se aplican los teoremas del seno y del coseno y que la suma de sus ángulos son <math>180</math> grados.</p>	<p>Si los datos originales son <math>b=5</math>, <math>c = 6</math> y <math>\alpha = 30^\circ</math> el teorema del coseno nos da <math>a = 3.01</math>, el teorema del seno <math>\alpha = 17.52^\circ</math> y la suma da <math>\beta = 132.48^\circ</math>.</p>

## EJERCICIOS Y PROBLEMAS

### Ángulos y razones trigonométricas

- Sabiendo que  $\cos \alpha = \frac{\sqrt{5}}{3}$ , halla las restantes razones trigonométricas del ángulo  $\alpha$ . [Hay dos soluciones].
- Calcula sin hacer uso de la calculadora las demás razones trigonométricas
  - $\operatorname{sen}(\alpha) = 0.2$  (cuadrante II)
  - $\cos(\alpha) = -0.3$  (cuadrante III)
  - $\operatorname{tg}(\alpha) = 2$  (cuadrante I)
- Sabiendo que  $\operatorname{sen} \alpha = -\frac{4}{5}$ , y que  $\alpha$  es un ángulo del tercer cuadrante, halla el coseno y la tangente de dicho ángulo.
- Si  $\operatorname{tg} x = 1/3$ , y  $x$  es un ángulo del primer cuadrante, calcula:
  - $\operatorname{tg}(180^\circ - x)$
  - $\operatorname{sen}(180^\circ + x)$
  - $\cos(360^\circ - x)$
- Sabiendo que  $\operatorname{sen} \alpha = 0.5$ , y que  $\alpha$  es un ángulo del SEGUNDO cuadrante, halla las otras cinco razones de dicho ángulo.

### Identidades y ecuaciones trigonométricas

- Resuelve:
  - $3\operatorname{sen}^2 x + \cos^2 x + \cos x = 0$
  - $\operatorname{tg} x = \sqrt{2} \cos x$
- Demuestra las siguientes identidades:
  - $(\operatorname{tg} x)(\cos x) = \operatorname{sen}(x)$
  - $\cot g^2 x - 1 = \frac{\cos(2x)}{\operatorname{sen}^2 x}$
  - $\sec^2 x = 1 + \operatorname{tg}^2 x$
  - $1 + \cos(2x) = \frac{2}{1 + \operatorname{tg}^2 x}$
  - $\operatorname{cosec}^2 x = 1 + \cot g^2 x$
  - $\frac{\cos x + \operatorname{sen} x}{\cos x - \operatorname{sen} x} \cdot \cos 2x = 1 + \operatorname{sen} 2x$
- Demuestra que son ciertas las siguientes igualdades:
  - $\operatorname{sen} a \cdot \operatorname{sen}(a - b) + \cos a \cdot \cos(a - b) = \cos b$ ;
  - $\operatorname{tg} 2\alpha = \frac{2\operatorname{tg} \alpha}{1 - \operatorname{tg}^2 \alpha}$
- Resuelve las siguientes ecuaciones trigonométricas:
  - $\cos 2\alpha - 3\operatorname{sen} \alpha + 1 = 0$
  - $\operatorname{sen} \alpha + \cos \alpha = 0$
- Di si son ciertas o falsas las siguientes igualdades:
  - $\frac{1 + \operatorname{tg}^2 x}{1 + \cot g^2 x} = \operatorname{tg}^2 x$
  - $\frac{\operatorname{sen}(2x)}{1 + \cos(2x)} = \operatorname{tg}(x)$

11. Demuestra que son ciertas las siguientes igualdades:

$$a) \frac{2\operatorname{sen}x}{\operatorname{tg}2x} = \cos x - \frac{\operatorname{sen}^2x}{\cos x}$$

$$b) \frac{1 - \operatorname{sen}^4x}{\cos^2x} = 2 - \cos^2x$$

12. Comprueba que son ciertas las siguientes igualdades:

$$a) \frac{1 + \operatorname{tg}^2(\alpha)}{1 + \operatorname{cot}^2(\alpha)} = \operatorname{tg}^2(\alpha)$$

$$b) \frac{\cos^2(\alpha)}{1 + \operatorname{sen}(\alpha)} = 1 - \operatorname{sen}(\alpha)$$

13. Resuelve las siguientes ecuaciones trigonométricas:

$$a) \cos x \cdot \cos 2x + 2 \cos^2 x = 0$$

$$b) \operatorname{tg}x - \operatorname{sen}2x = 0$$

14. Demuestra que son ciertas las igualdades:

$$a) \cos(\alpha - \beta) - (\operatorname{sen}\beta)(\operatorname{tg}\alpha)(\cos\alpha) = \frac{\cos\alpha}{\sec\beta}$$

$$b) \operatorname{sen}(270^\circ - \alpha) + \cos(\alpha) = 0$$

15. Resuelve la ecuación trigonométrica  $\cos(2\alpha) + 1 = 4 \cos \alpha$  (dando TODAS las soluciones posibles).

16. Resuelve la ecuación trigonométrica  $\frac{\operatorname{sen}(2x)}{\operatorname{tg}x} + \cos^2x = 1$  dando TODAS las soluciones posibles.

17. Resuelve la ecuación trigonométrica  $\cos(2x) + \cos(x) = 0.2$  dando TODAS las soluciones posibles.

18. Resuelve las siguientes ecuaciones

$$a) \operatorname{sen}^2(x) - \operatorname{sen}(x) = 0$$

$$b) \cos(x) + \operatorname{sen}^2(x) = 1$$

$$c) 3\operatorname{tg}^2(x) = \sec^2(x)$$

$$d) \operatorname{sen}(2x) = 0.5$$

19. Resuelve los siguientes sistemas:

$$a) \left. \begin{array}{l} x + \operatorname{sen}^2y = 2 \\ x + \cos^2y = 1 \end{array} \right\} \quad b) \left. \begin{array}{l} \operatorname{sen}(x) \cdot \cos(y) = \frac{3}{4} \\ \cos(x) \cdot \operatorname{sen}(y) = \frac{1}{4} \end{array} \right\} \quad c) \left. \begin{array}{l} \cos(x) + \cos(y) = 1 \\ \cos(x+y) = 1 \end{array} \right\}$$

20. Resuelve las siguientes ecuaciones

$$a) \operatorname{sen}\left(\frac{\pi}{4} + 2x\right) = \frac{\sqrt{3}}{2}$$

$$b) \operatorname{sen}(3x) - \operatorname{sen}(30^\circ) = 0$$

$$c) \operatorname{sen}(2x) = 2 \cdot \cos(x)$$


21. Simplifica las siguientes expresiones

$$a) (\operatorname{sen}(x) + \cos(x))^2 + (\operatorname{sen}(x) - \cos(x))^2 \quad d) \frac{\operatorname{sen}(2a) \cdot \cos(a)}{\operatorname{sen}(a) \cdot (1 + \cos 2a)}$$

$$b) \frac{\operatorname{sen}^3(x) + \operatorname{sen}(x) \cdot \cos^2(x)}{\operatorname{sen}(x)} \quad e) \frac{\operatorname{tg}(a)}{\operatorname{tg}(2a) - \operatorname{tg}(a)}$$

$$c) \frac{\operatorname{sen}(x-y) - \operatorname{sen}(x+y)}{\cos(x+y) - \cos(x-y)}$$

## Problemas de resolución de triángulos



**22.** Una antena de radio está sujeta al suelo con dos cables, que forman con la antena ángulos de  $36^\circ$  y  $48^\circ$ . Los puntos de sujeción de los cables están alineados con el pie de la antena y distan entre sí 98 metros. Calcula la altura de la antena.

**23.** Calcula los lados y los ángulos del triángulo  $ABC$ , rectángulo en  $A$ , del que conocemos el cateto  $AC=15\text{cm}$ . y la altura relativa a la hipotenusa  $AD = 12\text{cm}$ .

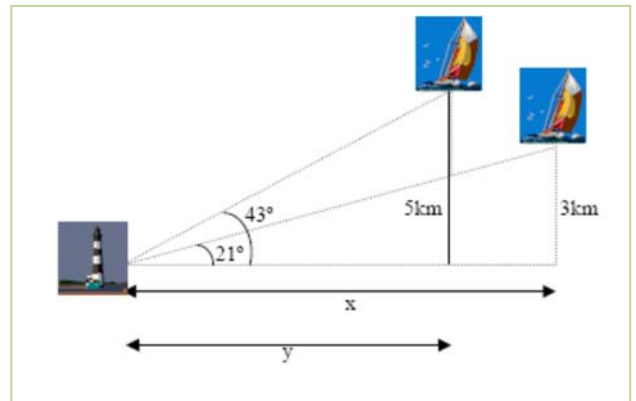
**24.** Calcular el área de un heptágono regular inscrito en una circunferencia de 35 cm de perímetro. Calcular el radio de la circunferencia inscrita.

- 25.** En un tramo de carretera la inclinación es del 5 % (sube 5 m en 100 m). Calcular el ángulo que forma con la horizontal la carretera. Sabemos que hemos subido 100 m, ¿Cuánto hemos andado por la carretera?
- 26.** Desde un cierto punto del suelo se ve un árbol bajo un ángulo de  $42^\circ$  ¿bajo qué ángulo se ve colocándose al doble de distancia?
- 27.** En un triángulo conocemos dos de sus ángulos y un lado:  $A = 55^\circ$ ,  $B = 98^\circ$ ,  $a = 7.5$  cm. Resuélvelo.
- 28.** En un triángulo conocemos dos lados y el ángulo comprendido entre ellos  $A = 35^\circ$ ,  $b = 20$  cm,  $c = 14$  cm. Resuélvelo.
- 29.** Halla los ángulos de un triángulo del que se conocen los tres lados:  $a = 37$  cm,  $b = 42$  cm,  $c = 68$  cm.
- 30.** Dos barcos parten de un puerto con rumbos distintos que forman un ángulo de  $127^\circ$ . El primero sale a las 10 h de la mañana con una velocidad de 17 nudos, y el segundo sale a las 11 h 30 min, con una velocidad de 26 nudos. Si el alcance de sus equipos de radio es de 150 km. ¿Podrán ponerse en contacto a las 3 de la tarde? (nudo = milla/hora; milla = 1 850 m).
- 31.** Dos amigos están en una playa a 150 m de distancia y en el mismo plano vertical que una cometa que se encuentra volando entre ambos. En un momento dado, uno la ve con un ángulo de elevación de  $50^\circ$  y el otro con un ángulo de  $38^\circ$ . ¿Qué distancia hay desde cada uno de ellos a la cometa?

32. Un globo aerostático se encuentra sujeto al suelo, mediante dos cables de acero, en dos puntos que distan 70 metros. El cable más corto mide 90 metros y el ángulo que forma el otro cable con el suelo es de  $42^\circ$ . Calcula:

- La medida del otro cable.
- La distancia del globo al suelo.

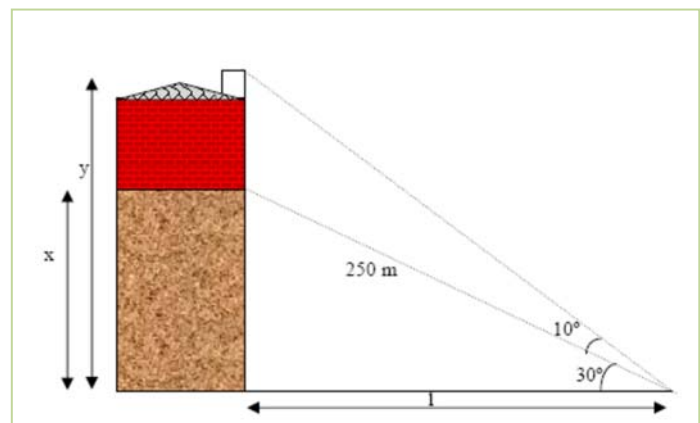
33. Desde un faro  $F$  se ve un barco  $A$  con ángulo de  $43^\circ$  con la costa, y el barco  $B$  con  $21^\circ$ . El barco  $B$  está a 3 km de la costa y el  $A$  a 5 km. Calcula distancia entre los barcos.



34. Una finca tiene forma triangular. Dos de sus lados miden 140 m y 200 m respectivamente, y el ángulo comprendido entre ambos es de  $35^\circ$ . Calcula el perímetro y la superficie de la finca.

35. Calcula el área y el perímetro de un pentágono regular inscrito en una circunferencia de radio 3 cm.

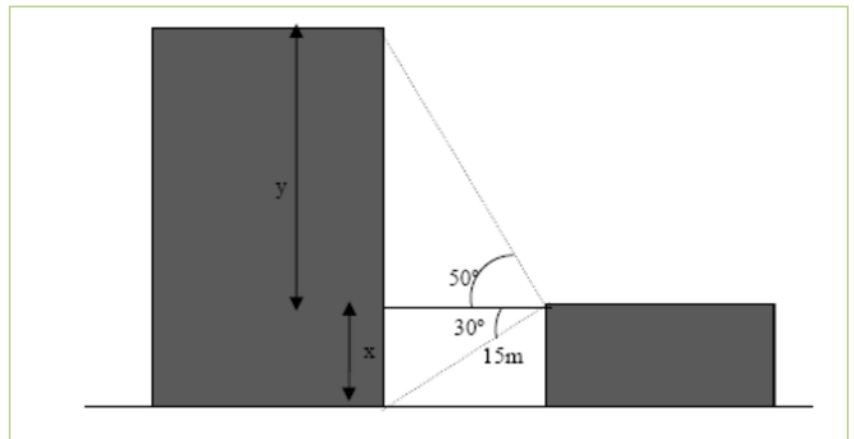
36. Calcula la altura del edificio:



37. Dos personas  $A$  y  $B$  distan entre sí 200 m y ven un globo que está situado entre ambas. La primera persona lo ve con un ángulo de  $30^\circ$  y la segunda con un ángulo de  $60^\circ$ .

- ¿A qué distancia está  $B$  del globo?
- ¿A qué altura está el globo?
- Una persona que esté situada dentro del globo ¿Con qué ángulo ve a  $A$  y  $B$ ?

38. Calcula la altura de la torre grande a partir del siguiente dibujo.



39. Deseamos medir la altura de un edificio. Si lo observamos desde un punto  $A$  lo vemos con un ángulo de  $50^\circ$ . Ahora bien, si lo contemplamos desde 20m más lejos el ángulo es de  $40^\circ$ . ¿Cuál es la altura del edificio? ¿A qué distancia está el punto  $B$  de dicho edificio?
40. Calcula todos los ángulos de un triángulo de lados 4.5 y 6. ¿Hay más de una solución? Si hay más de una, calcúlalas todas, si hay una sola, explica por qué.
41. Justifica que hay EXACTAMENTE DOS triángulos con lados  $a = 4$ ,  $b=5$  y ángulo  $\alpha$  (el opuesto al lado  $a$ ) igual a  $45^\circ$ .
42. Resuelve los siguientes triángulos
- $\alpha = 45^\circ$ ,  $b = 50$  m,  $a = 40$  m
  - $\beta = 30^\circ$ ,  $a = 5$  cm,  $b = 3$  cm
  - $\alpha = 45^\circ$ ,  $\gamma = 60^\circ$ ,  $b = 20$  m
  - $\gamma = 45^\circ$ ,  $b = 10$  m,  $c = 6$  m
  - $A = 5$  cm,  $b = 4$  cm,  $c = 4$  cm
43. Comenzamos en una ciudad  $A$  y observamos un cartel. La ciudad  $B$  está a 50 km y la ciudad  $C$  a 40 km. Medimos el ángulo que forman las dos carreteras y resulta ser de  $60^\circ$ .
- ¿A qué distancia está  $B$  de  $C$ ?
  - Desde la ciudad  $B$  ¿Con qué ángulo se ven las otras dos ciudades? [En otras palabras: si consideramos el triángulo  $ABC$  ¿cuánto vale el ángulo  $\beta$  que corresponde al vértice  $B$ ?]

AUTOEVALUACIÓN

- Calcula las siguientes razones trigonométricas sin hacer uso de la calculadora.
  - $\text{sen}(-750^\circ)$
  - $\text{tg}(570^\circ)$
  - $\text{cos}(20\pi/3)$
- A partir de las razones trigonométricas de la suma calcula las siguientes razones trigonométricas:
  - $\text{sen}(105^\circ)$
  - $\text{cos}(75^\circ)$
- Sea un triángulo del que conocemos los siguientes datos  $a = 10\text{cm}$ ,  $b = 20\text{ cm}$ ,  $\hat{A} = 30^\circ$ . Calcula los demás datos del triángulo. Calcula el área del triángulo
- Un buitre vuela a 120 m de altura y formando un ángulo con la horizontal respecto de nosotros de  $60^\circ$ . En la misma dirección, pero formando un ángulo de  $30^\circ$  vuela una perdiz a 100 m de altura. Si el buitre quiere comerse la perdiz, pero sólo lo consigue si la distancia entre ambos es menor de 150 m. ¿Puede el buitre cazar a la perdiz? ¿A qué distancia están?
- Calcula sin utilizar la calculadora el resto de razones trigonométricas (seno, coseno) de  $\alpha$ , sabiendo que  $\text{tg}(\alpha) = 1/2$  y  $\alpha \in 3^{\text{er}}$  cuadrante.
- Resuelve las siguientes ecuaciones
  - $6 \cdot \text{cos}^2(x/2) + \text{cos}(x) = 1$
  - $\text{sen}(x) + \text{cos}(x) = \sqrt{2}$
- Resuelve los siguientes sistemas:
  - $$\begin{cases} \text{sen}(x) + \text{sen}(y) = 1 \\ x + y = \pi \end{cases}$$
  - $$\begin{cases} \text{sen}(x) + \text{sen}(y) = \frac{\sqrt{3}+1}{2} \\ \text{sen}(x) - \text{sen}(y) = \frac{\sqrt{3}-1}{2} \end{cases}$$
  - $$\begin{cases} x + y = \frac{\pi}{2} \\ \text{sen}(x) + \text{sen}(y) = \frac{\sqrt{6}}{2} \end{cases}$$
- Demuestra las siguientes igualdades:
  - $\text{cos}(x+y+z) = \text{cos}(x) \cdot \text{cos}(y) \cdot \text{cos}(z) - \text{cos}(x) \cdot \text{sen}(y) \cdot \text{sen}(z) - \text{sen}(x) \cdot \text{cos}(y) \cdot \text{sen}(z) - \text{sen}(x) \cdot \text{sen}(y) \cdot \text{cos}(z)$
  - $\frac{\text{sen}^2(2a)}{(1 - \text{cos}^2 a) \cdot \text{cos}(a)} = 4 \cdot \text{cos}(a)$
- Calcula el perímetro de un pentágono regular inscrito en una circunferencia de 30 cm de radio. Calcula su área
- En las señales de tráfico que indican la pendiente de la carretera la información que nos dan es el porcentaje de subida en función del avance del coche. Calcula el ángulo para una pendiente del 15 por ciento.